

제 2 교시

5지선다형

1. $2^{\frac{7}{3}} \times 16^{\frac{2}{3}}$ 의 값은? [2점]

- ① 4
- ② 8
- ③ 16
- ④ 32
- ⑤ 64

$2^{\frac{7}{3}} \times 2^{\frac{8}{3}} = 2^5$

2. 공차가 3인 등차수열 $\{a_n\}$ 에 대하여 $a_7 - a_2$ 의 값은? [2점]

- ① 6
- ② 9
- ③ 12
- ④ 15
- ⑤ 18

$5d = 15$

3. $\log_{81} 12 - \log_{81} 4$ 의 값은? [2점]

- ① $\frac{1}{8}$
- ② $\frac{1}{4}$
- ③ $\frac{3}{8}$
- ④ $\frac{1}{2}$
- ⑤ $\frac{5}{8}$

$\log_{81} 3 = \frac{1}{4}$

4. 함수 $f(x)$ 가 모든 실수 x 에 대하여

$2x + 1 \leq f(x) \leq (x + 1)^2$

을 만족시킬 때, $\lim_{x \rightarrow 0} (x + 5)f(x)$ 의 값은? [3점]

- ① 1
- ② 2
- ③ 3
- ④ 4
- ⑤ 5

$5 \times 1 = 5$

2

수학 영역

5. $0 \leq x \leq 3\pi$ 일 때, 방정식 $\sqrt{2} \cos x - 1 = 0$ 의 모든 해의 합은?

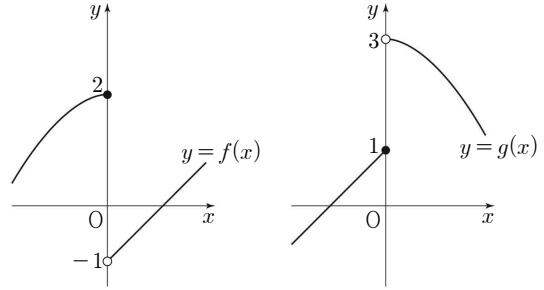
[3점]

- ① $\frac{15}{4}\pi$ ② 4π ③ $\frac{17}{4}\pi$ ④ $\frac{9}{2}\pi$ ⑤ $\frac{19}{4}\pi$

$C = \frac{\sqrt{2}}{2}$

$\frac{\pi}{4} + \frac{7\pi}{4} + \frac{9\pi}{4} = \frac{17\pi}{4}$

7. 두 함수 $y = f(x)$, $y = g(x)$ 의 그래프가 그림과 같다.



$\lim_{x \rightarrow 0} \{f(x) + kg(x)\}$ 의 값이 존재할 때, 상수 k 의 값은? [3점]

- ① $\frac{1}{2}$ ② 1 ③ $\frac{3}{2}$ ④ 2 ⑤ $\frac{5}{2}$

$0^- \rightarrow 2+k$
 $0^+ \rightarrow -1+3k \Rightarrow \begin{cases} 2k=3 \\ k=\frac{3}{2} \end{cases}$

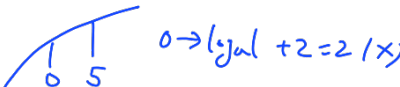
6. 함수 $f(x)$ 에 대하여 $\lim_{x \rightarrow \infty} \frac{f(x)}{x} = 3$ 일 때, $\lim_{x \rightarrow \infty} \frac{2x^2 - 1}{\{f(x)\}^2 + 3x^2}$ 의 값은? [3점]

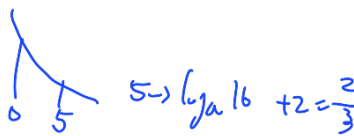
- ① $\frac{1}{6}$ ② $\frac{1}{3}$ ③ $\frac{1}{2}$ ④ $\frac{2}{3}$ ⑤ $\frac{5}{6}$

$2 + \frac{2 - \frac{1}{x^2}}{\frac{f^2}{x^2} + 3} = \frac{2}{9+3} = \frac{1}{6}$

8. 함수 $f(x) = \log_a(3x+1) + 2$ 가 닫힌구간 $[0, 5]$ 에서 최솟값 $\frac{2}{3}$ 를 가질 때, a 의 값은? (단, a 는 1이 아닌 양의 상수이다.) [3점]

- ① $\frac{1}{32}$ ② $\frac{1}{8}$ ③ $\frac{1}{2}$ ④ 2 ⑤ 8

$a > 1$  $0 \rightarrow \log_a(1) + 2 = 2(x)$

$0 < a < 1$  $5 \rightarrow \log_a(16) + 2 = \frac{2}{3}$

$\log_a(16) = \frac{-4}{3}$

$a^{-\frac{4}{3}} = 16 = 2^4, a = 2^{-3} = \frac{1}{8}$

9. 실수 전체의 집합에서 연속인 함수 $f(x)$ 가 모든 실수 x 에 대하여 $(x-1)f(x) = \sqrt{x^2+3} + a$ 를 만족시킬 때, $f(1)$ 의 값은? (단, a 는 상수이다.) [3점]

- ① $\frac{1}{4}$ ② $\frac{1}{2}$ ③ $\frac{3}{4}$ ④ 1 ⑤ $\frac{5}{4}$

$x=1 \rightarrow 0 = 2+a, a=-2$

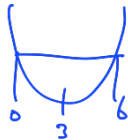
$x \neq 1 \rightarrow f(x) = \frac{\sqrt{x^2+3}-2}{x-1}$

연속 $\Rightarrow f(1) = \lim_{x \rightarrow 1} f(x) = \lim_{x \rightarrow 1} \frac{(x-1)(x+1)}{(x-1)(\sqrt{x^2+3}+2)}$

$= \frac{2}{4} = \frac{1}{2}$

10. 최고차항의 계수가 1인 이차함수 $f(x)$ 에서 x 의 값이 0에서 6까지 변할 때의 평균변화율이 0일 때, $f'(4)$ 의 값은? [3점]

- ① 2 ② 4 ③ 6 ④ 8 ⑤ 10



$f = (x-3)^2 + k$

$f' = 2(x-3), f'(4) = 2$

11. 다항함수 $f(x)$ 에 대하여 $\lim_{h \rightarrow 0} \frac{f(1+h) - f(1-h)}{h} = 6$ 일 때,

$\lim_{x \rightarrow 1} \frac{f(x^3) - f(1)}{x-1}$ 의 값은? [3점]

- ① 9 ② 11 ③ 13 ④ 15 ⑤ 17

$$2f'(1) = 6, f'(1) = 3$$

$$\lim_{x \rightarrow 1} \frac{f(x^3) - f(1)}{x^3 - 1} \times (x^2 + x + 1) = 3f'(1) = 9$$

12. 수열 $\{a_n\}$ 에 대하여 $a_1 = 1, a_{10} = 4$ 이고

$\sum_{k=1}^9 (a_k + a_{k+1}) = 25$ 일 때, $\sum_{k=1}^{10} a_k$ 의 값은? [3점]

- ① 11 ② 12 ③ 13 ④ 14 ⑤ 15

$$a_1 + a_2 + \dots + a_9 + a_{10}$$

$$+ (a_1 + a_2 + \dots + a_9 + a_{10})$$

$$25 + 1 + 4 = 2 \sum_{k=1}^{10} a_k = 30$$

$$\sum_{k=1}^{10} a_k = 15$$

13. 좌표평면 위에 두 점 $P(a, b)$, $Q(a^2, -2b^2)$ ($a > 0, b > 0$)이 있다. 두 동경 OP, OQ가 나타내는 각의 크기를 각각 θ_1, θ_2 라 하자. $\tan \theta_1 + \tan \theta_2 = 0$ 일 때, $\sin \theta_1$ 의 값은?
(단, O는 원점이고, x 축의 양의 방향을 시초선으로 한다.) [3점]

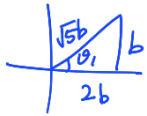
- ① $\frac{2}{5}$ ② $\frac{\sqrt{5}}{5}$ ③ $\frac{\sqrt{6}}{5}$ ④ $\frac{\sqrt{7}}{5}$ ⑤ $\frac{2\sqrt{2}}{5}$

$$\left(\begin{array}{l} \tan \theta_1 = \frac{b}{a} \\ \tan \theta_2 = \frac{-2b^2}{a^2} \end{array} \right) \frac{ab - 2b^2}{a^2} = 0$$

$$b(a - 2b) = 0$$

$$a = 2b \quad (\because b > 0)$$

$P(2b, b)$



$$\sin \theta_1 = \frac{b}{\sqrt{5b}} = \frac{1}{\sqrt{5}}$$

14. 첫째항이 1인 수열 $\{a_n\}$ 이 모든 자연수 n 에 대하여

$$a_{n+1} = \begin{cases} a_n - 4 & (a_n \geq 0) \\ a_n^2 & (a_n < 0) \end{cases}$$

일 때, $\sum_{k=1}^{22} a_k$ 의 값은? [4점]

- ① 50 ② 54 ③ 58 ④ 62 ⑤ 66

$$\left. \begin{array}{l} a_1 = 1 \\ a_2 = -3 \\ a_3 = 9 \\ a_4 = 5 \\ a_5 = 1 \end{array} \right\} / 2$$

$$2 \times 5 + 1 - 3 = 58$$

15. 모든 항이 실수인 등비수열 $\{a_n\}$ 에 대하여

$$\sum_{k=1}^{20} a_k + \sum_{k=1}^{10} a_{2k} = 0$$

이 성립한다. $a_3 + a_4 = 3$ 일 때, a_1 의 값은? [4점]

- ① 12 ② 16 ③ 20 ④ 24 ⑤ 28

$$\frac{a(r^{20}-1)}{r-1} + \frac{ar(r^{19}-1)}{r^2-1} = 0$$

$$\frac{a(r^{20}-1)}{r-1} \left(1 + \frac{r}{r+1}\right) = 0, \quad \frac{r}{r+1} = -1, \quad r = -\frac{1}{2}$$

$$a_3 + a_4 = \frac{1}{4}a - \frac{1}{8}a = 3$$

$$a = 24$$

16. $3\sin^2\left(\theta + \frac{2}{3}\pi\right) = 8\sin\left(\theta + \frac{\pi}{6}\right)$ 일 때, $\cos\left(\theta - \frac{\pi}{3}\right)$ 의 값은? [4점]

- ① $\frac{1}{6}$ ② $\frac{1}{5}$ ③ $\frac{1}{4}$ ④ $\frac{1}{3}$ ⑤ $\frac{1}{2}$

$$3\sin^2\left(\theta - \frac{\pi}{3} + \pi\right) = 8\sin\left(\theta - \frac{\pi}{3} + \frac{\pi}{2}\right)$$

$$3\sin^2\left(\theta - \frac{\pi}{3}\right) = 8\cos\left(\theta - \frac{\pi}{3}\right)$$

$$3(1-t^2) = 8t, \quad 3t^2 + 8t - 3 = 0$$

$$(3t-1)(t+3) = 0$$

$$t = \frac{1}{3} \quad (\because -1 \leq t \leq 1)$$

17. 다항함수 $f(x)$ 에 대하여 함수 $g(x)$ 를

$$g(x) = (x^2 - 2x + 2)f(x)$$

라 하자. $\lim_{x \rightarrow 2} \frac{g(x) - 1}{2f(x) - 1} = -2$ 일 때, $g'(2)$ 의 값은? [4점]

- ① $\frac{1}{3}$ ② $\frac{2}{3}$ ③ 1 ④ $\frac{4}{3}$ ⑤ $\frac{5}{3}$

$g(2) = 2f(2)$

i) $g(2) - 1 \neq 0 \Rightarrow \lim_{x \rightarrow 2} \frac{g(x) - 1}{2f(x) - 1} = 1 \neq -2$

$\therefore g(2) = 1 = 2f(2)$

$\lim_{x \rightarrow 2} \frac{g(x) - g(2)}{2f(x) - 2f(2)} = \frac{g'(2)}{2f'(2)} = -2$

$g'(2) = -4f'(2)$

$g'(x) = (2x - 2)f'(x) + (x^2 - 2x + 2)f''(x)$

$g'(2) = 2f'(2) + 2f''(2) = -4f'(2)$

$1 = -6f'(2), \quad f'(2) = -\frac{1}{6}$
 $g'(2) = -4f'(2) = \frac{2}{3}$

18. 1이 아닌 양의 실수 전체의 집합에서 정의된 함수 $f(x)$ 를

$f(x) = 2^{\frac{1}{\log_2 x}}$ 이라 하자.

다음은 방정식 $8 \times f(f(x)) = f(x^2)$ 의 모든 해의 곱을 구하는 과정이다.

$x \neq 1$ 인 모든 양의 실수 x 에 대하여

$f(f(x)) = 2^{\frac{1}{\log_2 f(x)}}$ 에서

$8 \times f(f(x)) = 2^{\left(\frac{(가)}{3} + \frac{1}{\log_2 f(x)}\right)}$ 이고,

$f(x) = 2^{\frac{1}{\log_2 x}}$ 에서 $\log_2 f(x) = \frac{1}{(나)}$ 이다.

방정식 $8 \times f(f(x)) = f(x^2)$ 에서

$2^{\left(\frac{(가)}{3} + \frac{1}{(나)}\right)} = 2^{\frac{1}{2\log_2 x}}$

$\frac{(가)}{3} + \frac{1}{(나)} = \frac{1}{2\log_2 x}$

그러므로 방정식 $8 \times f(f(x)) = f(x^2)$ 의 모든 해는 방정식 $\left(\frac{(가)}{3} + \frac{1}{(나)}\right) \times 2\log_2 x = 1$ 의 모든 해와 같다.

따라서 방정식 $8 \times f(f(x)) = f(x^2)$ 의 모든 해의 곱은 $\frac{(다)}{8}$ 이다.

위의 (가), (다)에 알맞은 수를 각각 p, q 라 하고, (나)에 알맞은 식을 $g(x)$ 라 할 때, $p \times q \times g(4)$ 의 값은? [4점]

- ① $\frac{1}{4}$ ② $\frac{3}{8}$ ③ $\frac{1}{2}$ ④ $\frac{5}{8}$ ⑤ $\frac{3}{4}$

$(3 + \log_2 x) | 2\log_2 x = 1, \log_2 x = t$

$2t^2 + 6t - 1 = 0$

$\log_2 \alpha + \log_2 \beta = -3$

$\log_2 \alpha \beta = -3, \alpha \beta = 2^{-3} = \frac{1}{8}$

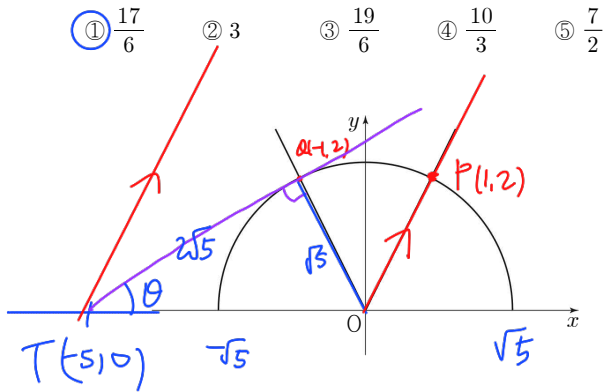
$\Rightarrow 3 \times \frac{1}{8} \times \log_2 4 = \frac{3}{4}$

19. 두 집합

$$A = \{(x, y) \mid x^2 + y^2 = 5, y \geq 0\},$$

$$B = \{(x, y) \mid y = 2|x|\}$$

에 대하여 좌표평면에서 집합 $A \cup B$ 가 나타내는 도형을 S 라 하자. 양의 실수 m 에 대하여 직선 $y = m(x+5)$ 가 도형 S 와 만나는 점의 개수를 $f(m)$ 이라 할 때, 열린구간 $(0, \infty)$ 에서 함수 $f(m)$ 은 $m = \alpha_1, m = \alpha_2, m = \alpha_3$ 에서만 불연속이다. $\alpha_1 + \alpha_2 + \alpha_3$ 의 값은? [4점]



$$x^2 + 4x^2 = 5 \quad x = 1, -1$$

$$y = 2, 2$$

$$P(1, 2) \quad Q(-1, 2)$$

$\tan \theta = \frac{2}{1}$, T에서 세 2은 접선의 접점: Q

$$TP \text{ 거울기} = \frac{2}{3}$$

$$TQ \text{ 거울기} = \frac{1}{2} \quad \left. \begin{matrix} \\ \end{matrix} \right\} \frac{1}{3} + \frac{1}{2} + 2 = \frac{17}{6}$$

$$OP \text{ 거울기} = 2$$

$$f(m) = \begin{cases} 4 & (0 < m < \frac{1}{3}) \\ 3 & (m = \frac{1}{3}) \\ 4 & (\frac{1}{3} < m < \frac{1}{2}) \\ 2 & (\frac{1}{2} \leq m < 2) \\ 1 & (m \geq 2) \end{cases}$$

20. 반지름의 길이가 $\sqrt{3}$ 인 원 C 에 내접하는 삼각형 ABC 에

대하여 $\angle BAC$ 의 이등분선이 원 C 와 만나는 점 중 A 가 아닌 점을 D 라 하고, 두 선분 BC, AD 의 교점을 E 라 하자.

$\overline{BD} = \sqrt{3}$ 일 때, <보기>에서 옳은 것만을 있는 대로 고른 것은? [4점]

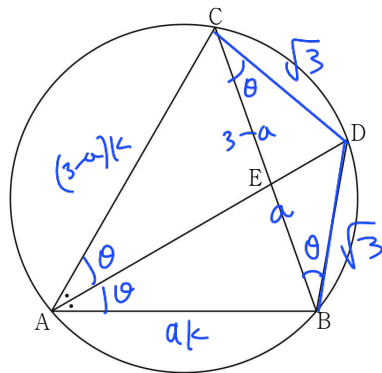
< 보기 >

㉠. $\sin(\angle DBE) = \frac{1}{2}$

㉡. $\overline{AB}^2 + \overline{AC}^2 = \overline{AB} \times \overline{AC} + 9$

㉢. 삼각형 ABC 의 넓이가 삼각형 BDE 의 넓이의 4배가 되도록 하는 모든 \overline{BE} 의 값의 합은 $\frac{9}{4}$ 이다.

- ① ㉠ ② ㉡ ③ ㉠, ㉡
 ④ ㉡, ㉢ ⑤ ㉠, ㉡, ㉢



㉠. $\frac{\sqrt{3}}{\sin \theta} = 2\sqrt{3}, \sin \theta = \frac{1}{2}, \theta = 30^\circ, \angle CBD = 120^\circ$

㉡. $\triangle BCD \rightarrow BC^2 = 3 + 3 - 2 \cdot \sqrt{3} \cdot \sqrt{3} \cdot (-\frac{1}{2}) = 9, BC = 3$

$\triangle ABC \rightarrow 9 = AB^2 + AC^2 - 2AB \cdot AC \cos 60^\circ$
 $9 = AB^2 + AC^2 - AB \cdot AC, AB^2 + AC^2 = AB \cdot AC + 9$

㉢. $BE = a, CE = 3-a, AB = ak, AC = (3-a)k$

(㉢) $\Rightarrow a^2 k^2 + (3-a)^2 k^2 = a(3-a)k^2 + 9$

$k^2(3a^2 - 9a + 9) = 9, k^2(a^2 - 3a + 3) = 3$

$\triangle ABC = 5 \times \triangle BDE, \frac{1}{2} a(3-a)k^2 \times \frac{\sqrt{3}}{2} = 4 \times \frac{1}{2} \times \frac{1}{2} a \times \frac{1}{2}$

$(3-a)k^2 = 4, \frac{1}{k^2} = \frac{3-a}{4}$

$a^2 - 3a + 3 = \frac{9-3a}{4}, 4a^2 - 12a + 12 = 9 - 3a$

$4a^2 - 9a + 3 = 0$

$\alpha + \beta = \frac{9}{4} \quad (O)$

21. 공차가 음수인 등차수열 $\{a_n\}$ 이 다음 조건을 만족시킬 때, 모든 a_1 의 값의 합은? [4점]

$|a_m| = 2|a_{m+2}|$ 이면서
 S_m, S_{m+1}, S_{m+2} 중에서 가장 큰 값이 460이고
 가장 작은 값이 450이 되도록 하는 자연수 m 이 존재한다.
 (단, S_n 은 수열 $\{a_n\}$ 의 첫째항부터 제 n 항까지의 합이다.)

- ① 144 ② 148 ③ 152 ④ 156 ⑤ 160

$d < 0$ $S_m, S_m + A_{m+1}, S_m + A_{m+1} + A_{m+2}$

i) $S_m = 460, S_{m+1} = 460 + A_{m+1}, S_{m+2} = 460 + A_{m+1} + A_{m+2}$
 $450, A_m + A_{m+2} = -10$
 $A_{m+1} < 0, A_{m+2} < 0, A_m < 0 \Rightarrow |A_m| = 2|A_{m+2}|$
 $\therefore A_m > 0, A_m = -2A_{m+2}$
 $A_m = -2(A_m + 2d), 3A_m = -4d$
 $A_m + d + A_m + 2d = -10$
 $3A_m + 3d = -10, d = 10/3$

ii) $S_m = 460 - A_{m+1}, S_{m+1} = 460, S_{m+2} = 460 + A_{m+2}$
 $A_{m+1} > 0, A_{m+2} < 0 \Rightarrow A_m > 0, A_m = -2A_{m+2}$
 $A_m = -2(A_m + 2d), 3A_m = -4d, A_m = -4/3 d$
 $A_{m+1} = A_m + d = -d/3$
 $A_{m+2} = -1/2 A_m = 2/3 d, 460 + d/3 > 460 + 2d/3 = 450$

$d = -15, A_m = 20$
 $a + (m-1)(-15) = 20, a - 15m = 5, a = 15m + 5$
 $S_{m+1} = \frac{(m+1)(2a + md)}{2} = \frac{(m+1)(30m + 10 - 15m)}{2} = 460$
 $= (m+1)(15m + 10) = 920$
 $= (m+1)(3m + 2) = 184, m = 7$
 $a_1 = 110$

단답형

22. 함수 $f(x) = x^3 - 5x + 8$ 에 대하여 $f'(2)$ 의 값을 구하시오. [3점]

$f' = 3x^2 - 5$?
 $f'(2) = 7$

23. 등비수열 $\{a_n\}$ 에 대하여 $a_2 = 2, a_6 = 9$ 일 때, $a_3 \times a_5$ 의 값을 구하시오. [3점]

18 $= a_2 \times a_6 = 18$

iii) $S_m = 460 - A_{m+1} - A_{m+2}, S_{m+1} = 460 - A_{m+2}, S_{m+2} = 460$
 450
 $A_{m+1} + A_{m+2} = 10, A_{m+1} > 0, A_{m+2} > 0 \Rightarrow A_m > 0$
 $\therefore A_m = 2A_{m+2}$
 $A_m = 2(A_m + 2d), A_m = -4d$
 $(-4d + d) + (-4d + 2d) = 10, d = -2$
 $A + (m-1)(-2) = 8, a = 2m + 6$
 $S_{m+2} = \frac{(m+2)(2a + (m+1)d)}{2} = 460$
 $\frac{(m+2)(2m+6)}{2} = 460, (m+2)(m+5) = 460$
 $20 \quad 23, m = 17$
 $a_1 = 42$
 $\therefore 110 + 42 = 152$

24. 함수 $y = 2^x$ 의 그래프를 x 축의 방향으로 a 만큼, y 축의 방향으로 3만큼 평행이동한 그래프가 함수 $y = \log_2(4x - b)$ 의 그래프와 직선 $y = x$ 에 대하여 대칭일 때, $a + b$ 의 값을 구하시오. (단, a 와 b 는 상수이다.) [3점]

14

$$y = 2^{x-a} + 3$$

$$\rightarrow 2^{x-a} = x - 3$$

$$y = \log_2(x - 3) + a$$

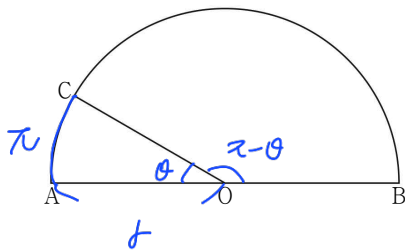
$$= \log_2(4x - b) = \log_2\left(4\left(x - \frac{b}{4}\right)\right)$$

$$= \log_2\left(x - \frac{b}{4}\right) + 2$$

$$\frac{b}{4} = 3, a = 2, b = 12$$

25. 선분 AB를 지름으로 하는 반원의 호 AB 위에 점 C가 있다. 선분 AB의 중점을 O라 할 때, 호 AC의 길이가 π 이고 부채꼴 OBC의 넓이가 15π 이다. 선분 OA의 길이를 구하시오. (단, 점 C는 점 A도 아니고 점 B도 아니다.) [3점]

6



$$\left. \begin{aligned} \pi &= r\theta \\ \frac{1}{2}r^2(\pi - \theta) &= 15\pi \end{aligned} \right\}$$

$$r^2\pi - r^2\theta = 30\pi$$

$$r^2\pi - r\pi = 30\pi$$

$$r^2 - r - 3 = 0$$

$$(r + 5)(r - 6) = 0, r = 6$$

26. 수열 $\{a_n\}$ 의 첫째항부터 제 n 항까지의 합을 S_n 이라 하자.

모든 자연수 n 에 대하여 $S_n = \frac{n}{2n+1}$ 일 때,

$\sum_{k=1}^6 \frac{1}{a_k}$ 의 값을 구하시오. [4점]

358

$$a_n = S_n - S_{n-1} \quad (n \geq 2)$$

$$= \frac{n}{2n+1} - \frac{n-1}{2n-1}$$

$$= \frac{(2n^2 - n) - (2n^2 - n - 1)}{(2n+1)(2n-1)} = \frac{1}{4n^2 - 1}$$

$$a_1 = S_1 = \frac{1}{3} \quad \therefore a_n = \frac{1}{4n^2 - 1} \quad (n \geq 1)$$

$$\frac{1}{a_n} = 4n^2 - 1$$

$$\sum_{k=1}^6 \frac{1}{a_k} = 4 \cdot \frac{6 \cdot 7 \cdot 13}{6} - 6 = 358$$

27. 일차함수 $f(x)$ 와 최고차항의 계수가 1인 이차함수 $g(x)$ 에 대하여

$$\lim_{x \rightarrow -3} \frac{f(x)g(x)}{(x+3)^2} = 4, \quad \lim_{x \rightarrow -3} \frac{f(x)+g(x)}{x+3} = -4$$

일 때, $g(2) - f(2)$ 의 값을 구하시오. [4점]

$$f(x) = ax \sim g(x) = x^2 \sim$$

25

$$\left. \begin{aligned} f(-3)g(-3) &= 0 \\ f(-3)+g(-3) &= 0 \end{aligned} \right\} \Rightarrow f(-3) = g(-3) = 0$$

$$f(x) = a(x+3)$$

$$g(x) = (x+3)(x+b)$$

$$\lim_{x \rightarrow -3} \frac{a(x+3)^2(x+b)}{(x+3)^2} = a(-3+b) = 4$$

$$\lim_{x \rightarrow -3} \frac{(x+3)(x+b+a)}{x+3} = -3+b+a = -4$$

$$a+b = -1$$

$$a(-3-a-1) = 4$$

$$-a^2 - 4a = 4, \quad a^2 + 4a + 4 = 0$$

$$a = -2, b = 1$$

$$g(x) = (x+3)(x+1), \quad g(2) = 15$$

$$f(x) = -2(x+3), \quad f(2) = -10$$

$$g(2) - f(2) = 25$$

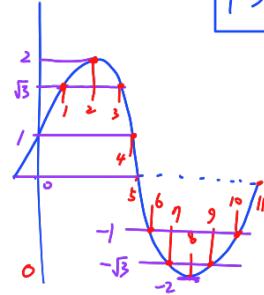
28. 자연수 n 에 대하여 닫힌구간 $[0, n]$ 에서

함수 $y = 2 \sin\left\{\frac{\pi}{6}(x+1)\right\}$ 의 최댓값을 $f(n)$, 최솟값을 $g(n)$ 이라

할 때, 부등식 $2 < f(n) - g(n) < 4$ 를 만족시키는 모든 n 의 값의 합을 구하시오. [4점]

주기 12

13



$f(n)$	1	2	3	4	5	6	7	8	9	10	...
	$\sqrt{3}$	2	2	2	2	2	2	2	2	2	...
$g(n)$	1	1	1	1	0	-1	$-\sqrt{3}$	-2	-2	-2	...

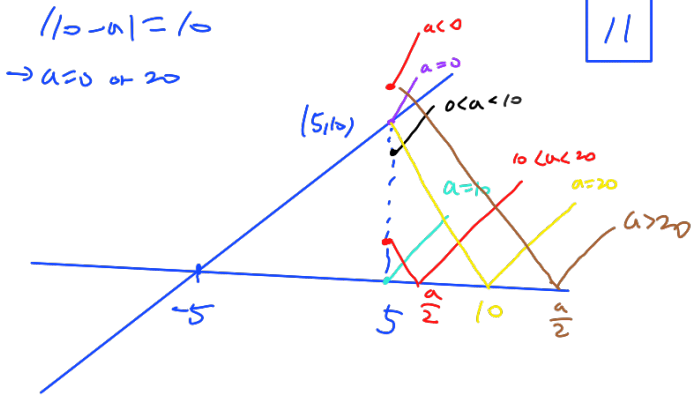
$$n = 6, 7 \quad 6 + 7 = 13$$

29. 두 자연수 a, b 에 대하여 두 함수 $f(x), g(x)$ 를

$$f(x) = \begin{cases} x+5 & (x < 5) \\ |2x-a| & (x \geq 5) \end{cases}$$

$$g(x) = (x-5)(x-b)$$

라 하자. 함수 $f(x)g(x)$ 가 실수 전체의 집합에서 미분가능하도록 하는 a, b 의 모든 순서쌍 (a, b) 의 개수를 구하시오. [4점]



$|10-a|=10$
 $\rightarrow a=0$ or 20

$a=10 \Rightarrow b=5$
 $0 < a < 10 \Rightarrow b=5$
 $a=20 \Rightarrow b=10$

11개

30. 양의 실수 a 에 대하여 함수 $f(x)$ 를

$$f(x) = \begin{cases} 2^x + 2^{-a} - 2 & (x < a) \\ 2^{-x} + 2^a - 2 & (x \geq a) \end{cases}$$

라 할 때, 함수 $f(x)$ 가 다음 조건을 만족시키도록 하는 a 의 최댓값을 M , 최솟값을 m 이라 하자.

함수 $y = |f(x)|$ 의 그래프와 직선 $y = k$ 가 서로 다른 두 점에서 만나도록 하는 양수 k 는 오직 하나뿐이다.

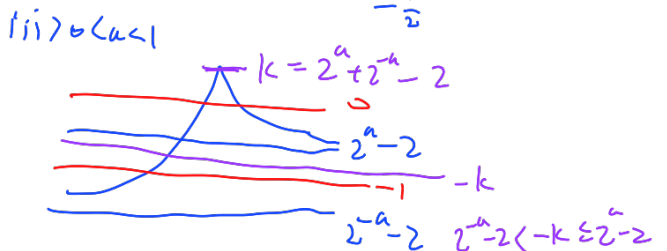
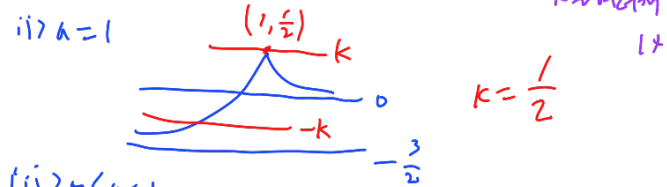
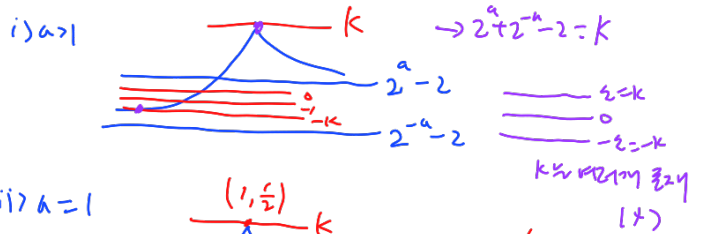
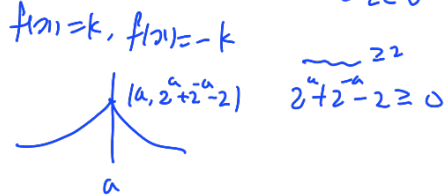
$2^{M+m} = p + \sqrt{q}$ 일 때, $p+q$ 의 값을 구하시오. (단, p 와 q 는 자연수이다.) [4점]

$a > 0$

$$2^{-a} < 1 \rightarrow 2^{-a} - 2 < -1$$

$$2^a > 1 \rightarrow 2^a - 2 > 0$$

$$\begin{cases} a=1 \rightarrow 2^{-2} = 0 \\ 0 < a < 1 \rightarrow -k < 2^{-2} < 0 \end{cases}$$



$2^a = t (t > 0), 0 < t < 2$

$$2^{-a} = \frac{1}{t} \Rightarrow 2^a + 2^{-a} - 2 = t + \frac{1}{t} - 2 < 2 - \frac{1}{t}$$

$$2^a + 2^{-a} - 2 = t + \frac{1}{t} - 2 > 2 - \frac{1}{t}$$

$$2^a + \frac{1}{2^a} - 4 \geq 0 \rightarrow 2^a = 4k + 1 \geq 0, t \leq \frac{2+\sqrt{2}}{2}, t \geq \frac{2+\sqrt{2}}{2}$$

$$t + \frac{1}{t} - 4 < 0 \rightarrow t^2 - 4t + 1 < 0 \rightarrow 2-\sqrt{2} < t < 2+\sqrt{2}$$

※ 확인 사항

○ 답안지의 해당란에 필요한 내용을 정확히 기입(표기)했는지 확인하시오.

$M=1, m=\log_2 \frac{2+\sqrt{2}}{2}$

$$2^{M+m} = 2^{\log_2 \frac{2+\sqrt{2}}{2}} = \frac{2+\sqrt{2}}{2}$$

$= 2 + \sqrt{2}, p=2, q=4$

$\log_2 \frac{2+\sqrt{2}}{2} = a < 1$