



04 수2

09 정적분의 활용

01 정적분과 넓이

01 정적분과 넓이1 (정적분의 기하적 의미)

[출처] 2021 모의\_공공 교육청 고3 04월 공통범위 13

1. 두 양수  $a, b$  ( $a < b$ )에 대하여 함수  $f(x)$ 를

$f(x) = (x-a)(x-b)$ 라 하자.

$$\int_0^a f(x)dx = \frac{11}{6}, \int_0^b f(x)dx = -\frac{8}{3}$$

일 때, 곡선  $y=f(x)$ 와  $x$ 축으로 둘러싸인 부분의 넓이는?

- ① 4                      ②  $\frac{9}{2}$                       ③ 5
- ④  $\frac{11}{2}$                       ⑤ 6

04 수2

09 정적분의 활용

01 정적분과 넓이

02 정적분과 넓이2 (그래프 조건)

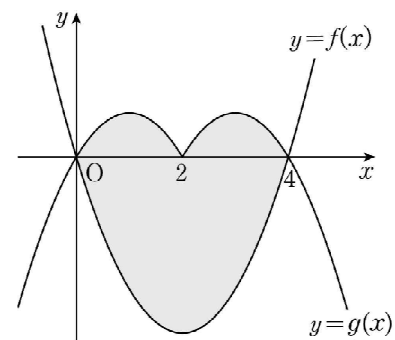
[출처] 2022 모의\_공공 교육청 고3 10월 공통범위 7

2. 두 함수

$$f(x) = x^2 - 4x, \quad g(x) = \begin{cases} -x^2 + 2x & (x < 2) \\ -x^2 + 6x - 8 & (x \geq 2) \end{cases}$$

의 그래프로 둘러싸인 부분의 넓이는?

- ①  $\frac{40}{3}$                       ② 14                      ③  $\frac{44}{3}$
- ④  $\frac{46}{3}$                       ⑤ 16



04 수2

09 정적분의 활용

01 정적분과 넓이

03 정적분과 넓이3 (그래프 그리기)

[출처] 2022 모의\_공공 교육청 고3 04월 공통범위 17

3. 곡선  $y = -x^2 + 4x - 4$ 와  $x$ 축 및  $y$ 축으로 둘러싸인 부분의 넓이를  $S$ 라 할 때,  $12S$ 의 값을 구하시오.

[출처] 2022 모의\_공공 사관학교 고3 07월 공통범위 18

4. 곡선  $y = x^3 + 2x$ 와  $y$ 축 및 직선  $y = 3x + 6$ 으로 둘러싸인 부분의 넓이를 구하시오.

04 수2

09 정적분의 활용

01 정적분과 넓이

04 정적분과 넓이4 (포물선의 넓이공식)

[출처] 2020 모의\_공공 교육청 고3 10월 10

5. 양수  $a$ 에 대하여 곡선  $y = x^2$ 과 직선  $y = ax$ 로 둘러싸인 부분의 넓이는?

- ①  $\frac{a^3}{12}$       ②  $\frac{a^3}{8}$       ③  $\frac{a^3}{6}$
- ④  $\frac{a^3}{4}$       ⑤  $\frac{a^3}{3}$

[출처] 2020 모의\_공공 평가원 고3 11월 27

6. 곡선  $y = x^2 - 7x + 10$ 과 직선  $y = -x + 10$ 으로 둘러싸인  
부분의 넓이를 구하시오.

[출처] 2021 모의\_공공 평가원 고3 06월 공통범위 6

7. 곡선  $y = 3x^2 - x$ 와 직선  $y = 5x$ 로 둘러싸인 부분의  
넓이는?  
① 1            ② 2            ③ 3  
④ 4            ⑤ 5

04 수2

09 정적분의 활용

01 정적분과 넓이

05 정적분과 넓이5 (중근관련)

[출처] 2020 모의\_공공 평가원 고3 06월 13

8. 곡선  $y = x^3 - 2x^2$ 과  $x$ 축으로 둘러싸인 부분의 넓이는?

- ①  $\frac{7}{6}$             ②  $\frac{4}{3}$             ③  $\frac{3}{2}$   
④  $\frac{5}{3}$             ⑤  $\frac{11}{6}$

04 수2

09 정적분의 활용

01 정적분과 넓이

08 정적분과 넓이8 (함수결정 후 넓이)

[출처] 2020 모의\_공공 사관학교 고3 07월 28

9. 양수  $a$ 와 함수  $f(x)$ 가 다음 조건을 만족시킨다.

- (가)  $0 \leq x < 1$ 일 때,  $f(x) = 2x^2 + ax$ 이다.
- (나) 모든 실수  $x$ 에 대하여  $f(x+1) = f(x) + a^2$ 이다.

함수  $f(x)$ 가 실수 전체의 집합에서 연속일 때, 곡선  $y = f(x)$ 와  $x$ 축 및 직선  $x = 3$ 으로 둘러싸인 부분의 넓이를 구하시오.

[출처] 2021 모의\_공공 교육청 고3 10월 공통범위 20

10. 최고차항의 계수가 1인 삼차함수  $f(x)$ 가  $f(0) = 0$ 이고, 모든 실수  $x$ 에 대하여  $f(1-x) = -f(1+x)$ 를 만족시킨다. 두 곡선  $y = f(x)$ 와  $y = -6x^2$ 으로 둘러싸인 부분의 넓이를  $S$ 라 할 때,  $4S$ 의 값을 구하시오.

[출처] 2022 모의\_공공 평가원 고3 09월 공통범위 20

11. 상수  $k(k < 0)$ 에 대하여 두 함수

$$f(x) = x^3 + x^2 - x, \quad g(x) = 4|x| + k$$

의 그래프가 만나는 점의 개수가 2일 때, 두 함수의 그래프로 둘러싸인 부분의 넓이를  $S$ 라 하자.  $30 \times S$ 의 값을 구하시오.

[출처]

2022 모의\_공공 경찰대 고3 07월 25

12. 세 집합  $A, B, C$ 는

$$A = \left\{ (2 + 2\cos\theta, 2 + 2\sin\theta) \mid -\frac{\pi}{3} \leq \theta \leq \frac{\pi}{3} \right\},$$

$$B = \left\{ (-2 + 2\cos\theta, 2 + 2\sin\theta) \mid \frac{2\pi}{3} \leq \theta \leq \frac{4\pi}{3} \right\},$$

$$C = \{ (a, b) \mid -3 \leq a \leq 3, b = 2 \pm \sqrt{3} \}$$

이다. 좌표평면에서 집합  $A \cup B \cup C$ 의 모든 원소가 나타내는 도형을  $X$ 라 하고, 도형  $X$ 와 곡선  $y = -\sqrt{3}x^2 + 2$ 가 만나는 점의  $y$ 좌표를  $c$ 라 하자. 집합  $X$ 로 둘러싸인 부분의 넓이를  $\alpha$ , 곡선  $y = -\sqrt{3}x^2 + 2$ 와 직선  $y = c$ 로 둘러싸인 부분의 넓이를  $\beta$ 라 하자.  $\alpha - \beta = \frac{p\pi + q\sqrt{3}}{3}$ 일 때,  $p+q$ 의 값을 구하시오. (단,  $p, q$ 는 정수이다.)

04 수2

09 정적분의 활용

01 정적분과 넓이

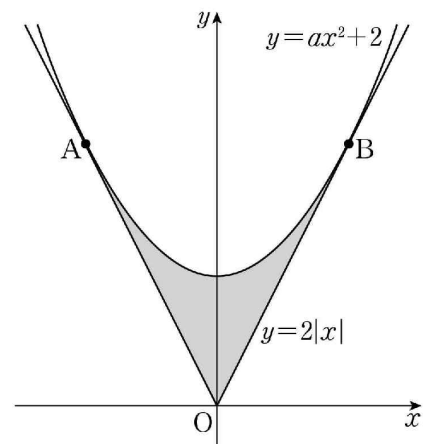
09 정적분과 넓이9 (곡선과 접선으로 둘러싸인 도형의 넓이)

[출처]

2020 모의\_공공 교육청 고3 03월 10

13. 그림과 같이 두 함수  $y = ax^2 + 2$ 와  $y = 2|x|$ 의 그래프가 두

점 A, B에서 각각 접한다. 두 함수  $y = ax^2 + 2$ 와  $y = 2|x|$ 의 그래프로 둘러싸인 부분의 넓이는? (단,  $a$ 는 상수이다.)

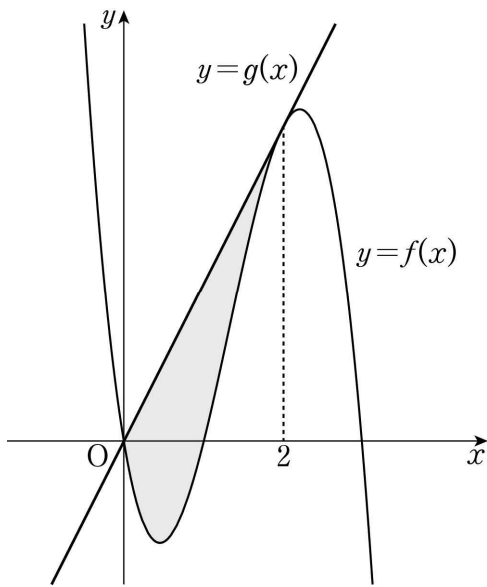


- ①  $\frac{13}{6}$
- ②  $\frac{7}{3}$
- ③  $\frac{5}{2}$
- ④  $\frac{8}{3}$
- ⑤  $\frac{17}{6}$

[출처] 2021 모의\_공공 교육청 고3 03월 공통범위 9

14. 최고차항의 계수가  $-3$ 인 삼차함수  $y=f(x)$ 의 그래프 위의 점  $(2, f(2))$ 에서의 접선  $y=g(x)$ 가 곡선  $y=f(x)$ 와 원점에서 만난다. 곡선  $y=f(x)$ 와 직선  $y=g(x)$ 로 둘러싸인 도형의 넓이는?

- ①  $\frac{7}{2}$       ②  $\frac{15}{4}$       ③ 4
- ④  $\frac{17}{4}$       ⑤  $\frac{9}{2}$

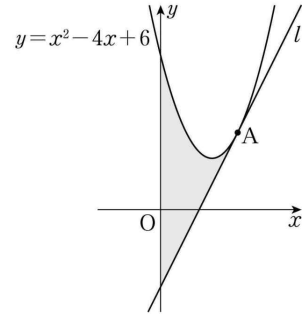


[출처] 2022 모의\_공공 교육청 고3 03월 공통범위 7

15. 그림과 같이 곡선  $y=x^2-4x+6$  위의 점

$A(3, 3)$ 에서의

접선을  $l$ 이라 할 때, 곡선  $y=x^2-4x+6$ 과 직선  $l$  및  $y$ 축으로 둘러싸인 부분의 넓이는?



- ①  $\frac{26}{3}$       ② 9      ③  $\frac{28}{3}$
- ④  $\frac{29}{3}$       ⑤ 10

04 수2

09 정적분의 활용

02 정적분과 넓이의 해석

01 넓이와 해석1 (넓이조건과 관계식)

[출처] 2021 모의\_공공 사관학교 고3 07월 공통범위 20

16. 양의 실수  $a$ 에 대하여 함수  $f(x)$ 를

$$f(x) = \begin{cases} \frac{3}{a}x^2 & (-a \leq x \leq a) \\ 3a & (x < -a \text{ 또는 } x > a) \end{cases}$$

라 하자. 함수  $y=f(x)$ 의 그래프와  $x$ 축 및 두 직선  $x=-3$ ,  $x=3$ 으로 둘러싸인 부분의 넓이가 8이 되도록 하는 모든  $a$ 의 값의 합은  $S$ 이다.  $40S$ 의 값을 구하시오.

04 수2

09 정적분의 활용

02 정적분과 넓이의 해석

02 넓이와 해석2 (넓이의 Mm)

[출처] 2020 모의\_공공 경찰대 고3 07월 5

17. 곡선  $y=x^2-1$  위의 점  $(t, t^2-1)$ 에서의 접선을  $l$ 이라

하자. 곡선  $y=x^2-1$ 과 직선  $l$  및 두 직선  $x=0$ ,  $x=1$ 로 둘러싸인 도형의 넓이의 최솟값은? (단,  $0 < t < 1$ )

- ①  $\frac{1}{21}$                       ②  $\frac{1}{18}$                       ③  $\frac{1}{15}$
- ④  $\frac{1}{12}$                       ⑤  $\frac{1}{9}$

04 수2

09 정적분의 활용

02 정적분과 넓이의 해석

03 넓이와 해석3 (넓이로 정의된 함수)

[출처] 2022 모의\_공공 경찰대 고3 07월 10

18. 함수

$$f(x) = \begin{cases} (x+2)^2 & (x \leq 0) \\ -(x-2)^2 + 8 & (x > 0) \end{cases}$$

이 있다. 실수  $m$  ( $m < 4$ )에 대하여 곡선  $y=f(x)$ 와 직선  $y=mx+4$ 로 둘러싸인 부분의 넓이를  $h(m)$ 이라 할 때,  $h(-2)+h(1)$ 의 값은?

- ① 75            ② 78            ③ 81
- ④ 84            ⑤ 87

04 수2

09 정적분의 활용

02 정적분과 넓이의 해석

04 넓이와 해석4 (넓이가 같은 조건)

[출처] 2020 모의\_공공 경찰대 고3 07월 18

19. 두 함수  $f(x)=x^4(x-a)$ ,  $g(x)=k(x-1)(x-b)$ 의

그래프가 직선  $y=x-1$ 에 접한다. 함수  $f(x)$ 의 그래프와  $x$ 축으로 둘러싸인 부분의 넓이가 함수  $g(x)$ 의 그래프와  $x$ 축으로 둘러싸인 부분의 넓이와 같을 때, 세 상수  $a, b, k$ 에 대하여  $abk$ 의 값은? (단,  $b > 1$ )

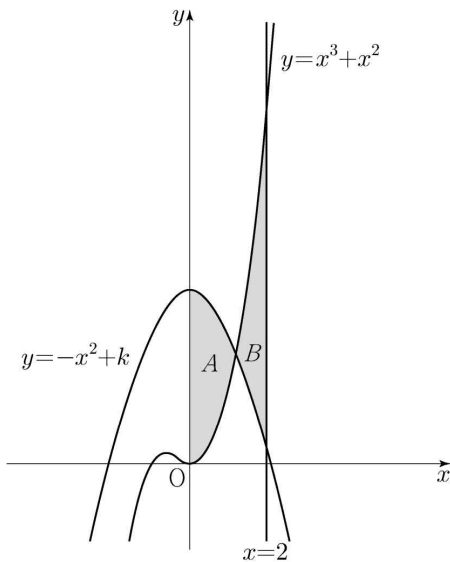
- ①  $-2-\sqrt{5}$     ②  $-1-\sqrt{5}$     ③  $-\sqrt{5}$
- ④  $1-\sqrt{5}$       ⑤  $2-\sqrt{5}$



[출처] 2022 모의\_공공 평가원 고3 11월

20. 두 곡선  $y = x^3 + x^2$ ,  $y = -x^2 + k$ 와  $y$ 축으로 둘러싸인 부분의 넓이를  $A$ , 두 곡선  $y = x^3 + x^2$ ,  $y = -x^2 + k$ 와 직선  $x = 2$ 로 둘러싸인 부분의 넓이를  $B$ 라 하자.  $A = B$ 일 때, 상수  $k$ 의 값은? (단,  $4 < k < 5$ )

- ①  $\frac{25}{6}$       ②  $\frac{13}{3}$       ③  $\frac{9}{2}$
- ④  $\frac{14}{3}$       ⑤  $\frac{29}{6}$



04 수2

09 정적분의 활용

02 정적분과 넓이의 해석

05 넓이와 해석5 (함수의 대칭성)

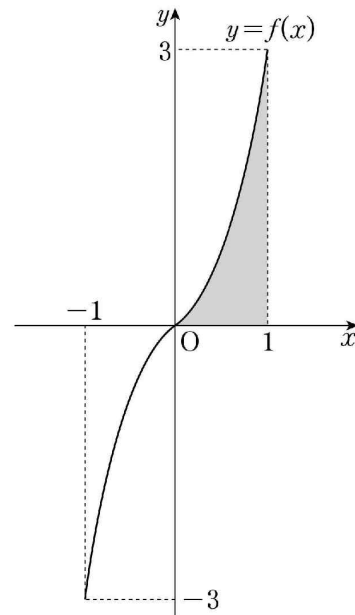
[출처] 2020 모의\_공공 교육청 고3 03월 30

21. 닫힌구간  $[-1, 1]$ 에서 정의된 연속함수  $f(x)$ 는

정의역에서 증가하고 모든 실수  $x$ 에 대하여  $f(-x) = -f(x)$ 가 성립할 때, 함수  $g(x)$ 가 다음 조건을 만족시킨다.

- (가) 닫힌구간  $[-1, 1]$ 에서  $g(x) = f(x)$ 이다.
- (나) 닫힌구간  $[2n-1, 2n+1]$ 에서 함수  $y = g(x)$ 의 그래프는 함수  $y = f(x)$ 의 그래프를  $x$ 축의 방향으로  $2n$ 만큼,  $y$ 축의 방향으로  $6n$ 만큼 평행이동한 그래프이다. (단,  $n$ 은 자연수이다.)

$f(1) = 3$ 이고  $\int_0^1 f(x)dx = 1$ 일 때,  $\int_3^6 g(x)dx$ 의 값을 구하시오.



[출처]

2021 모의\_공공 평가원 고3 11월 8

22. 곡선  $y = x^2 - 5x$ 와 직선  $y = x$ 로 둘러싸인 부분의

넓이를 직선  $x = k$ 가 이등분할 때, 상수  $k$ 의 값은?

- ① 3                      ②  $\frac{13}{4}$                       ③  $\frac{7}{2}$   
 ④  $\frac{15}{4}$                       ⑤ 4

## 04 수2

09 정적분의 활용

03 속도와 거리

01 속도와 거리1 (위치, 위치조건)

[출처]

2020 모의\_공공 평가원 고3 06월 15

23. 수직선 위를 움직이는 점 P의 시각  $t(t \geq 0)$ 에서의

속도  $v(t)$ 가

$$v(t) = -4t + 5$$

이다. 시각  $t = 3$ 에서 점 P의 위치가 11일 때, 시각  $t = 0$ 에서 점 P의 위치는?

- ① 11                      ② 12                      ③ 13  
 ④ 14                      ⑤ 15

[출처] 2020 모의\_공공 사관학교 고3 07월 12

24. 시각  $t=0$ 일 때 동시에 원점을 출발하여 수직선 위를 움직이는 두 점 P, Q의 시각  $t(t \geq 0)$ 에서의 속도가 각각  $v_1(t) = 2t + 3$ ,  $v_2(t) = at(6-t)$ 이다. 시각  $t=3$ 에서 두 점 P, Q가 만날 때,  $a$ 의 값은? (단,  $a$ 는 상수이다.)
- ① 1                      ② 2                      ③ 3  
 ④ 4                      ⑤ 5

[출처] 2021 모의\_공공 교육청 고3 04월 공통범위 10

25. 수직선 위를 움직이는 점 P의 시각  $t(t \geq 0)$ 에서의 속도  $v(t)$ 가  $v(t) = 4t - 10$ 이다. 점 P의 시각  $t=1$ 에서의 위치와 점 P의 시각  $t=k(k > 1)$ 에서의 위치가 서로 같을 때, 상수  $k$ 의 값은?
- ① 3                      ②  $\frac{7}{2}$                       ③ 4  
 ④  $\frac{9}{2}$                       ⑤ 5

[출처] 2021 모의\_공공 평가원 고3 06월 공통범위 19

26. 수직선 위를 움직이는 점 P의 시각  $t(t \geq 0)$ 에서의 속도  $v(t)$ 가  $v(t) = 3t^2 - 4t + k$ 이다. 시각  $t=0$ 에서 점 P의 위치는 0이고, 시각  $t=1$ 에서 점 P의 위치는  $-3$ 이다. 시각  $t=1$ 에서  $t=3$ 까지 점 P의 위치의 변화량을 구하시오. (단,  $k$ 는 상수이다.)

[출처] 2022 모의\_공공 사관학교 고3 07월 공통범위 20

27. 원점을 출발하여 수직선 위를 움직이는 점 P의 시각  $t$  ( $t \geq 0$ )에서의 속도는

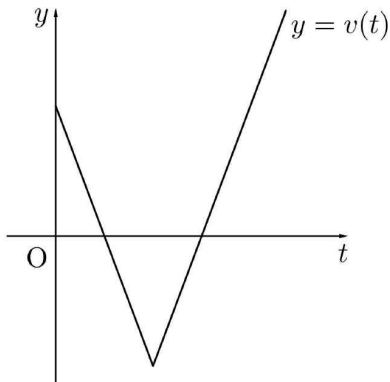
$$v(t) = |at - b| - 4 \quad (a > 0, b > 4)$$

이다. 시각  $t=0$ 에서  $t=k$ 까지 점 P가 움직인 거리를  $s(k)$ , 시각  $t=0$ 에서  $t=k$ 까지 점 P의 위치의 변화량을  $x(k)$ 라 할 때, 두 함수  $s(k)$ ,  $x(k)$ 가 다음 조건을 만족시킨다.

(가)  $0 \leq k < 3$ 이면  $s(k) - x(k) < 8$ 이다.

(나)  $k \geq 3$ 이면  $s(k) - x(k) = 8$ 이다.

시간  $t=1$ 에서  $t=6$ 까지 점 P의 위치의 변화량을 구하시오. (단,  $a$ ,  $b$ 는 상수이다.)



[출처] 2022 모의\_공공 교육청 고3 07월 공통범위 18

28. 시각  $t=0$ 일 때 원점을 출발하여 수직선 위를 움직이는 점 P의 시각  $t$  ( $t \geq 0$ )에서의 속도  $v(t)$ 가

$$v(t) = 3t^2 + 6t - a$$

이다. 시각  $t=3$ 에서의 점 P의 위치가 6일 때, 상수  $a$ 의 값을 구하시오.

[출처] 2022 모의\_공공 교육청 고3 04월 공통범위 10

29. 수직선 위를 움직이는 점 P의 시각  $t$  ( $t \geq 0$ )에서의 속도  $v(t)$ 가

$$v(t) = 3(t-2)(t-a) \quad (a > 2 \text{인 상수})$$

이다. 점 P의 시각  $t=0$ 에서의 위치는 0이고,  $t > 0$ 에서 점 P의 위치가 0이 되는 순간은 한 번뿐이다.  $v(8)$ 의 값은?

- ① 27                      ② 36                      ③ 45
- ④ 54                      ⑤ 63

[출처] 2022 모의\_공공 경찰대 고3 07월 2

30. 시각  $t=0$ 일 때 동시에 원점을 출발하여 수직선 위를 움직이는 두 점 P, Q의 시각  $t$  ( $t \geq 0$ )에서의 속도가 각각  $v_P(t) = 3t^2 + 2t - 4$ ,  $v_Q(t) = 6t^2 - 6t$

이다. 출발한 후 두 점 P, Q가 처음으로 만나는 위치는?

- ① 1                      ② 2                      ③ 3
- ④ 4                      ⑤ 5

04 수2

09 정적분의 활용

03 속도와 거리

02 속도와 거리2 (속도, 가속도 조건)

[출처] 2021 모의\_공공 평가원 고3 예비 공통범위 14

31. 수직선 위를 움직이는 점 P의 시각  $t$ 에서의 가속도가

$$a(t) = 3t^2 - 12t + 9 (t \geq 0)$$

이고, 시각  $t=0$ 에서의 속도가  $k$ 일 때, <보기>에서 옳은 것만을 있는 대로 고른 것은?

<보 기>

- ㄱ. 구간  $(3, \infty)$ 에서 점 P의 속도는 증가한다.
- ㄴ.  $k=-4$ 이면 구간  $(0, \infty)$ 에서 점 P의 운동 방향이 두 번 바뀐다.
- ㄷ. 시각  $t=0$ 에서 시각  $t=5$ 까지 점 P의 위치의 변화량과 점 P가 움직인 거리가 같도록 하는  $k$ 의 최솟값은 0이다.

- ① ㄱ                      ② ㄴ                      ③ ㄱ, ㄴ
- ④ ㄱ, ㄷ                ⑤ ㄱ, ㄴ, ㄷ

04 수2

09 정적분의 활용

03 속도와 거리

03 속도와 거리3 (이동거리)

[출처] 2020 모의\_공공 교육청 고3 04월 26

32. 수직선 위를 움직이는 점 P의 시각  $t(t \geq 0)$ 에서의

속도  $v(t)$ 가

$$v(t) = -4t + 8$$

일 때,  $t=0$ 에서  $t=3$ 까지 점 P가 움직인 거리를 구하시오.

[출처] 2020 모의\_공공 교육청 고3 03월 27

33. 수직선 위를 움직이는 점 P의 시각  $t$ 에서의 속도

$v(t)$ 가  $v(t) = 3t^2 - 12t + 9$ 이다. 점 P가  $t=0$ 일 때 원점을 출발하여 처음으로 운동 방향을 바꾼 순간의 위치를 A라 하자. 점 P가 A에서 방향을 바꾼 순간부터 다시 A로 돌아올 때까지 움직인 거리를 구하시오.

[출처] 2020 모의\_공공 평가원 고3 11월 14

34. 수직선 위를 움직이는 점 P의 시각  $t(t \geq 0)$ 에서의

속도  $v(t)$ 가

$$v(t) = 2t - 6$$

이다. 점 P가 시각  $t=3$ 에서  $t=k(k > 3)$ 까지 움직인 거리가 25일 때, 상수  $k$ 의 값은?

① 6                      ② 7                      ③ 8

④ 9                      ⑤ 10

[출처] 2020 모의\_공공 평가원 고3 09월 13

35. 수직선 위를 움직이는 점 P의 시각  $t(t \geq 0)$ 에서의

속도  $v(t)$ 가

$$v(t) = t^2 - at \quad (a > 0)$$

이다. 점 P가 시각  $t=0$ 일 때부터 움직이는 방향이 바뀔 때까지 움직인 거리가  $\frac{9}{2}$ 이다. 상수  $a$ 의 값은?

① 1                      ② 2                      ③ 3

④ 4                      ⑤ 5

[출처] 2021 모의\_공공 교육청 고3 10월 공통범위 17

36. 수직선 위를 움직이는 점 P의 시각  $t(t \geq 0)$ 에서의

속도  $v(t)$ 가

$$v(t) = 12 - 4t$$

일 때, 시각  $t=0$ 에서  $t=4$ 까지 점 P가 움직인 거리를 구하시오.

[출처] 2021 모의\_공공 사관학교 고3 07월 공통범위 11

37. 시각  $t=0$ 일 때 동시에 원점을 출발하여 수직선 위를

움직이는 두 점 P, Q의 시각  $t(t \geq 0)$ 에서의 속도가 각각

$$v_1(t) = 3t^2 - 6t, v_2(t) = 2t$$

이다. 두 점 P, Q가 시각  $t=a(a > 0)$ 에서 만날 때, 시각  $t=0$ 에서  $t=a$ 까지 점 P가 움직인 거리는?

- ① 22            ② 24            ③ 26  
 ④ 28            ⑤ 30

[출처] 2021 모의\_공공 경찰대 고3 07월 3

38. 수직선 위를 움직이는 점 P의 시각  $t(t \geq 0)$ 에서의

속도  $v(t)$ 가

$$v(t) = at^2 + bt \quad (a, b \text{는 상수})$$

이다. 시각  $t=1, t=2$ 일 때, 점 P의 속도가 각각 15, 20이다. 시각  $t=1$ 에서  $t=5$ 까지 점 P가 움직인 거리는?

- ①  $\frac{166}{3}$             ② 56            ③  $\frac{170}{3}$   
 ④  $\frac{172}{3}$             ⑤ 58

[출처] 2021 모의\_공공 평가원 고3 09월 공통범위 9

39. 수직선 위를 움직이는 점 P의 시각  $t(t > 0)$ 에서의 속도  $v(t)$ 가

$$v(t) = -4t^3 + 12t^2$$

이다. 시각  $t = k$ 에서 점 P의 가속도가 12일 때, 시각  $t = 3k$ 에서  $t = 4k$ 까지 점 P가 움직인 거리는?  
(단,  $k$ 는 상수이다.)

- ① 23                      ② 25                      ③ 27
- ④ 29                      ⑤ 31

[출처] 2021 모의\_공공 평가원 고3 11월 14

40. 수직선 위를 움직이는 점 P의 시각  $t$ 에서의 위치

$x(t)$ 가 두 상수  $a, b$ 에 대하여

$$x(t) = t(t-1)(at+b) \quad (a \neq 0)$$

이다. 점 P의 시각  $t$ 에서의 속도  $v(t)$ 가  $\int_0^1 |v(t)| dt = 2$ 를 만족시킬 때, <보기>에서 옳은 것만을 있는 대로 고른 것은?

<보 기>

ㄱ.  $\int_0^1 v(t) dt = 0$

ㄴ.  $|x(t_1)| > 1$ 인  $t_1$ 이 열린구간  $(0, 1)$ 에 존재한다.

ㄷ.  $0 \leq t \leq 1$ 인 모든  $t$ 에 대하여  $|x(t)| < 1$ 이면  $x(t_2) = 0$ 인  $t_2$ 가 열린구간  $(0, 1)$ 에 존재한다.

- ① ㄱ                      ② ㄱ, ㄴ                      ③ ㄱ, ㄷ
- ④ ㄴ, ㄷ                      ⑤ ㄱ, ㄴ, ㄷ



[출처] 2021 모의\_공공 교육청 고3 07월 공통범위 14

41. 시각  $t=0$ 일 때 원점을 출발하여 수직선 위를

움직이는 점 P의 시각  $t(t \geq 0)$ 에서의 속도  $v(t)$ 가

$$v(t) = 3t^2 - 6t$$

일 때, <보기>에서 옳은 것만을 있는 대로 고른 것은?

<보 기>

- ㄱ. 시각  $t=2$ 에서 점 P가 움직이는 방향이 바뀐다.
- ㄴ. 점 P가 출발한 후 움직이는 방향이 바뀔 때 점 P의 위치는  $-4$ 이다.
- ㄷ. 점 P가 시각  $t=0$ 일 때부터 가속도가 12가 될 때까지 움직인 거리는 8이다.

- ① ㄱ                      ② ㄱ, ㄴ                      ③ ㄱ, ㄷ
- ④ ㄴ, ㄷ                      ⑤ ㄱ, ㄴ, ㄷ

[출처] 2022 모의\_공공 교육청 고3 03월 공통범위 9

42. 수직선 위를 움직이는 점 P의 시각  $t(t \geq 0)$ 에서의

속도  $v(t)$ 가

$$v(t) = 3t^2 + at$$

이다. 시각  $t=0$ 에서의 점 P의 위치와 시각  $t=6$ 에서의 점 P의 위치가 서로 같을 때, 점 P가 시각  $t=0$ 에서  $t=6$ 까지 움직인 거리는? (단,  $a$ 는 상수이다.)

- ① 64                      ② 66                      ③ 68
- ④ 70                      ⑤ 72

[출처] 2022 모의\_공공 평가원 고3 06월 공통범위 11

43. 시각  $t=0$ 일 때 동시에 원점을 출발하여 수직선 위를

움직이는 두 점 P, Q의 시각  $t(t \geq 0)$ 에서의 속도가 각각

$$v_1(t) = 2 - t, \quad v_2(t) = 3t$$

이다. 출발한 시각부터 점 P가 원점으로 돌아올 때까지 점 Q가 움직인 거리는?

- ① 16                      ② 18                      ③ 20
- ④ 22                      ⑤ 24

[출처] 2022 모의\_공공 교육청 고3 10월 공통범위 19

44. 수직선 위를 움직이는 점 P의 시각  $t(t \geq 0)$ 에서의

속도  $v(t)$ 가

$$v(t) = 4t^3 - 48t$$

이다. 시각  $t=k(k > 0)$ 에서 점 P의 가속도가 0일 때, 시각  $t=0$ 에서  $t=k$ 까지 점 P가 움직인 거리를 구하시오. (단,  $k$ 는 상수이다.)

[출처] 2022 모의\_공공 평가원 고3 11월

45. 수직선 위를 움직이는 점 P의 시각  $t$  ( $t \geq 0$ )에서의 속도  $v(t)$ 와 가속도  $a(t)$ 가 다음 조건을 만족시킨다.

- (가)  $0 \leq t \leq 2$ 일 때,  $v(t) = 2t^3 - 8t$ 이다.
- (나)  $t \geq 2$ 일 때,  $a(t) = 6t + 4$ 이다.

시각  $t=0$ 에서  $t=3$ 까지 점 P가 움직인 거리를 구하시오.

[출처] 2022 모의\_공공 평가원 고3 09월 공통범위 10

46. 수직선 위의 점 A(6)과 시각  $t=0$ 일 때 원점을 출발하여 이 수직선 위를 움직이는 점 P가 있다. 시각  $t(t \geq 0)$ 에서의 점 P의 속도  $v(t)$ 를

$$v(t) = 3t^2 + at \quad (a > 0)$$

이라 하자. 시각  $t=2$ 에서 점 P와 점 A사이의 거리가 10일 때, 상수  $a$ 의 값은?

- ① 1                      ② 2                      ③ 3
- ④ 4                      ⑤ 5

04 수2

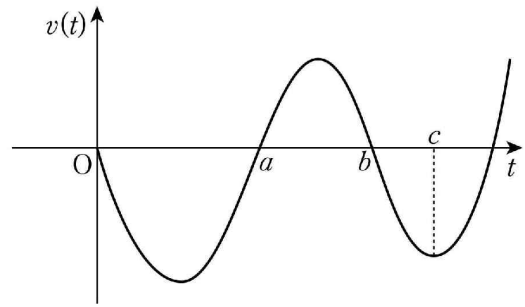
09 정적분의 활용

03 속도와 거리

04 속도와 거리4 (그래프)

[출처] 2020 모의\_공공 교육청 고3 03월 15

47. 원점을 출발하여 수직선 위를 움직이는 점 P의 시각  $t(t \geq 0)$ 에서의 속도  $v(t)$ 의 그래프가 그림과 같다.



점 P가 출발한 후 처음으로 운동 방향을 바꿀 때의 위치는 -8이고 점 P의 시각  $t=c$ 에서의 위치는 -6이다.

$\int_0^b v(t)dt = \int_b^c v(t)dt$ 일 때, 점 P가  $t=a$ 부터  $t=b$ 까지

움직인 거리는?

- ① 3                      ② 4                      ③ 5
- ④ 6                      ⑤ 7

[수학2] [05정적분의활용] 교사평경 최근 3개년(빠른 정답)

년도별경향 2022.12.28

- 1. [정답] ②
- 2. [정답] ①
- 3. [정답] 32
- 4. [정답] 10
- 5. [정답] ③
  
- 6. [정답] 36
- 7. [정답] ④
- 8. [정답] ②
- 9. [정답] 17
- 10. [정답] 2
  
- 11. [정답] 80
- 12. [정답] 34
- 13. [정답] ④
- 14. [정답] ③
- 15. [정답] ②
  
- 16. [정답] **290**
- 17. [정답] ④
- 18. [정답] ③
- 19. [정답] ②
- 20. [정답] ④
  
- 21. [정답] 41
- 22. [정답] ①
- 23. [정답] ④
- 24. [정답] ①
- 25. [정답] ③
  
- 26. [정답] **6**
- 27. [정답] 14
- 28. [정답] 16
- 29. [정답] ②
- 30. [정답] ④
  
- 31. [정답] ④
- 32. [정답] 10
- 33. [정답] 8
- 34. [정답] ③
  
- 35. [정답] ③
  
- 36. [정답] 20
- 37. [정답] ②
- 38. [정답] ③
- 39. [정답] ③
- 40. [정답] ③
  
- 41. [정답] ⑤
- 42. [정답] ①
- 43. [정답] ⑤
- 44. [정답] 80
- 45. [정답] 17
  
- 46. [정답] ④
- 47. [정답] ③

[수학2] [05정적분의활용] 교사평경 최근 3개년(해설)

년도별경향

2022.12.28

1) [정답] ②

[해설]

함수  $f(x) = (x-a)(x-b)$ 에 대하여

곡선  $y = f(x)$ 와  $x$ 축으로 둘러싸인 부분의 넓이는

$$\begin{aligned} \int_a^b |f(x)| dx &= - \int_a^b f(x) dx \\ &= - \left( \int_0^b f(x) dx - \int_0^a f(x) dx \right) \\ &= - \left( -\frac{8}{3} - \frac{11}{6} \right) \\ &= \frac{9}{2} \end{aligned}$$

2) [정답] ①

[해설]

두 함수  $y = f(x)$ ,  $y = g(x)$ 의 그래프로 둘러싸인 부분에서  $0 \leq x \leq 2$ 인 부분과  $2 \leq x \leq 4$ 인 부분의 넓이가 같으므로 구하는 넓이를  $S$ 라 하면

$$\begin{aligned} S &= \int_0^4 \{g(x) - f(x)\} dx \\ &= 2 \int_0^2 (-2x^2 + 6x) dx \\ &= 2 \left[ -\frac{2}{3}x^3 + 3x^2 \right]_0^2 = \frac{40}{3} \end{aligned}$$

3) [정답] 32

[해설]

곡선  $y = -x^2 + 4x - 4$ 와  $x$ 축 및  $y$ 축으로 둘러싸인 부분의 넓이  $S$ 는

$$\begin{aligned} S &= \int_0^2 |-x^2 + 4x - 4| dx \\ &= \int_0^2 (x^2 - 4x + 4) dx \\ &= \left[ \frac{1}{3}x^3 - 2x^2 + 4x \right]_0^2 = \frac{8}{3} \end{aligned}$$

따라서  $12S = 32$

4) [정답] 10

[해설]

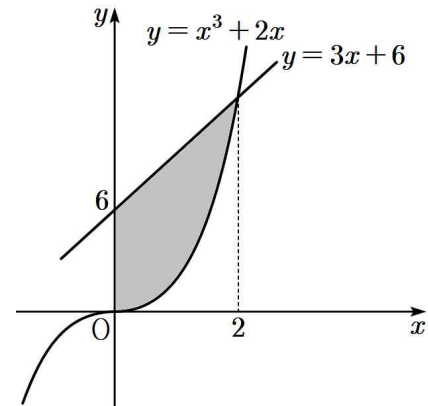
$$x^3 + 2x = 3x + 6 \text{에서}$$

$$x^3 - x - 6 = 0$$

$$(x-2)(x^2 + 2x + 3) = 0$$

$$\therefore x = 2$$

곡선  $y = x^3 + 2x$ 와 직선  $y = 3x + 6$ 의 그래프는 다음 그림과 같다.



따라서 구하는 넓이를  $S$ 라 하면

$$\begin{aligned} S &= \int_0^2 \{3x + 6 - (x^3 + 2x)\} dx \\ &= \int_0^2 (-x^3 + x + 6) dx \\ &= \left[ -\frac{1}{4}x^4 + \frac{1}{2}x^2 + 6x \right]_0^2 \\ &= -4 + 2 + 12 \\ &= 10 \end{aligned}$$

5) [정답] ③

[해설]

곡선  $y = x^2$ 과 직선  $y = ax$ 의 교점의 좌표는 방정식  $x^2 = ax$ 에서

$$(0, 0), (a, a^2)$$

따라서 구하는 넓이는

$$\begin{aligned} \int_0^a |ax - x^2| dx &= \left[ \frac{a}{2}x^2 - \frac{x^3}{3} \right]_0^a \\ &= \frac{a^3}{2} - \frac{a^3}{3} \\ &= \frac{a^3}{6} \end{aligned}$$

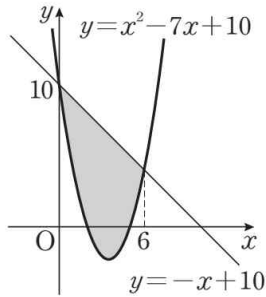
6) [정답] 36

[해설]

곡선  $y = x^2 - 7x + 10$ 과 직선  $y = -x + 10$ 이 만나는 점의  $x$ 좌표는  $x^2 - 7x + 10 = -x + 10$ 에서

$$x^2 - 6x = 0, x(x - 6) = 0$$

$$\therefore x = 0 \text{ 또는 } x = 6$$



따라서 구하는 넓이를  $S$ 라 하면

$$S = \int_0^6 \{(-x + 10) - (x^2 - 7x + 10)\} dx$$

$$= \int_0^6 (-x^2 + 6x) dx$$

$$= \left[ -\frac{1}{3}x^3 + 3x^2 \right]_0^6$$

$$= 36$$

7) [정답] ④

[해설]

곡선  $y = 3x^2 - x$ 와 직선  $y = 5x$ 의 교점을 구하면

$$3x^2 - x = 5x, 3x(x - 2) = 0$$

$$\therefore x = 0 \text{ 또는 } 2$$

즉 곡선  $y = 3x^2 - x$ 와 직선  $y = 5x$ 으로 둘러싸인 부분의 넓이  $S$ 는

$$S = \int_0^2 \{5x - (3x^2 - x)\} dx$$

$$= \int_0^2 (6x - 3x^2) dx$$

$$= \left[ 3x^2 - x^3 \right]_0^2$$

$$= 12 - 8$$

$$= 4$$

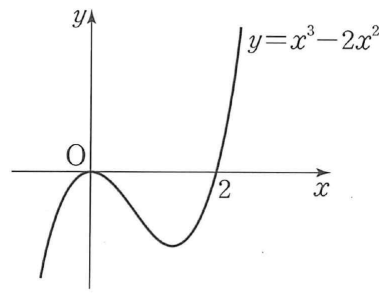
8) [정답] ②

[해설]

$$y = x^3 - 2x^2$$

$$= x^2(x - 2)$$

곡선  $y = x^3 - 2x^2$ 은 다음과 같다.



따라서 구하는 넓이를  $S$ 라 하면

$$S = \int_0^2 |x^3 - 2x^2| dx$$

$$= \int_0^2 (-x^3 + 2x^2) dx$$

$$= \left[ -\frac{1}{4}x^4 + \frac{2}{3}x^3 \right]_0^2$$

$$= -4 + \frac{16}{3}$$

$$= \frac{4}{3}$$

9) [정답] 17

[해설]

연속이므로  $f(1) = \lim_{x \rightarrow 1} f(x)$  즉  $2 + a = a^2$ 에서

$$a = 2$$

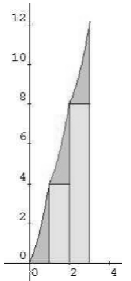
$y = f(x)$ 의 그래프는 그림과 같다.

따라서 구하는 넓이는

$$S = 3 \int_0^1 (2x^2 + 2x) dx + 12$$

$$= 3 \left[ \frac{2}{3}x^3 + x^2 \right]_0^1 + 12$$

$$= 5 + 12 = 17$$



10) [정답] 2

[해설]

$f(1-x) = -f(1+x)$ 에  $x = 0, x = 1$ 을 각각 대입하면

$$f(1) = -f(1) \text{에서 } f(1) = 0, f(0) = -f(2) \text{에서 } f(2) = 0$$

삼차함수  $f(x)$ 는  $f(0) = f(1) = f(2) = 0$ 이고 최고차항의 계수가 1이므로  $f(x) = x(x-1)(x-2)$

방정식  $f(x) = -6x^2$ 에서  $x^3 + 3x^2 + 2x = 0$ 이므로

$$x(x+1)(x+2) = 0, x = 0 \text{ 또는 } x = -1 \text{ 또는 } x = -2$$

$-2 \leq x \leq -1$ 에서  $x^3 + 3x^2 + 2x \geq 0$ 이고

$-1 \leq x \leq 0$  에서  $x^3 + 3x^2 + 2x \leq 0$ 이므로

$$S = \int_{-2}^0 |x^3 + 3x^2 + 2x| dx$$

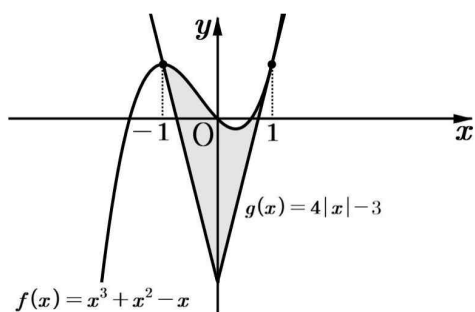
$$= \int_{-2}^{-1} (x^3 + 3x^2 + 2x) dx + \int_{-1}^0 \{-(x^3 + 3x^2 + 2x)\} dx$$

$$= \left[ \frac{1}{4}x^4 + x^3 + x^2 \right]_{-2}^{-1} + \left[ -\frac{1}{4}x^4 - x^3 - x^2 \right]_{-1}^0 = \frac{1}{2}$$

따라서  $4S = 2$

11) [정답] 80

[해설]



두 그래프가 만나는 점의 개수가 2일 때,  
 $x > 0$ 에서  $f(x)$ 와  $g(x)$ 는 접하고  $x < 0$ 에서 만난다.

$x \geq 0$ 일 때,  $g(x) = 4x + k$ 이므로

$$f'(x) = 3x^2 + 2x - 1 = 4$$

$$(3x + 5)(x - 1) = 0$$

$\therefore x = 1$ 일 때  $(1, 1)$ 에서  $f(x)$ 와  $g(x)$ 는 접한다.

따라서  $g(x) = 4x - 3$ 이고  $k = -3$ 이다.

$x < 0$ 일 때,

$$x^3 + x^2 - x = -4x - 3$$

$$x^3 + x^2 + 3x + 3 = 0$$

$$(x^2 + 3)(x + 1) = 0$$

$\therefore x = -1$ 일 때  $(-1, 1)$ 에서  $f(x)$ 와  $g(x)$ 는 만난다.

따라서 두 함수의 그래프로 둘러싸인 부분의 넓이  $S$ 는

$$S = \int_{-1}^0 \{(x^3 + x^2 - x) - (-4x - 3)\} dx$$

$$+ \int_0^1 \{(x^3 + x^2 - x) - (4x - 3)\} dx$$

$$= \int_{-1}^0 (x^3 + x^2 + 3x + 3) dx + \int_0^1 (x^3 + x^2 - 5x + 3) dx$$

$$= \int_{-1}^1 (x^3 + x^2 + 3) dx + \int_{-1}^0 3x dx + \int_0^1 -5x dx$$

$$= 2 \int_0^1 x^2 + 3 dx + \left[ \frac{3}{2}x^2 \right]_{-1}^0 + \left[ -\frac{5}{2}x^2 \right]_0^1$$

$$= 2 \left[ \frac{1}{3}x^3 + 3x \right]_0^1 - \frac{3}{2} - \frac{5}{2}$$

$$= \frac{8}{3}$$

$$\therefore 30 \times S = 80$$

[다른 풀이]

$$x^3 + x^2 - x = 4|x| + k \text{에서}$$

$$x^3 + x^2 - x - 4|x| = k \dots \text{㉠}$$

$h(x) = x^3 + x^2 - x - 4|x|$ 라 하면

$$h(x) = \begin{cases} x^3 + x^2 - 5x & (x \geq 0) \\ x^3 + x^2 + 3x & (x < 0) \end{cases} \text{에서}$$

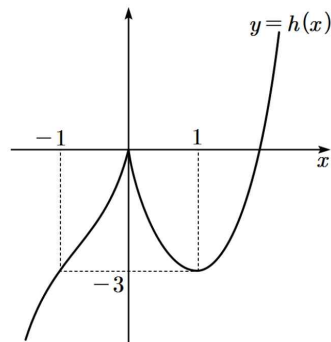
$$h'(x) = \begin{cases} 3x^2 + 2x - 5 & (x > 0) \\ 3x^2 + 2x + 3 & (x < 0) \end{cases}$$

$3x^2 + 2x - 5 = (3x + 5)(x - 1)$ 이므로  $h'(x) = 0$ 에서  $x = 1$

함수  $h(x)$ 의 증가와 감소를 표로 나타내면 다음과 같다.

$x$	...	0	...	1	...
$h'(x)$	+		-	0	+
$h(x)$	↗	극대	↘	극소	↗

$x = 0$ 에서 극댓값  $h(0) = 0$ ,  $x = 1$ 에서 극솟값  $h(1) = -1$ 을 가지므로 함수  $y = h(x)$ 의 그래프는 다음과 같다.



㉠이 서로 다른 두 실근을 가지고  $k < 0$ 이므로  $k = -3$

따라서 두 함수의 그래프로 둘러싸인 부분의 넓이는

$$S = \int_{-1}^0 (x^3 + x^2 + 3x + 3) dx + \int_0^1 (x^3 + x^2 - 5x + 3) dx$$

$$= \left[ \frac{1}{4}x^4 + \frac{1}{3}x^3 + \frac{3}{2}x^2 + 3x \right]_{-1}^0 + \left[ \frac{1}{4}x^4 + \frac{1}{3}x^3 - \frac{5}{2}x^2 + 3x \right]_0^1$$

$$= -\left( \frac{1}{4} - \frac{1}{3} + \frac{3}{2} - 3 \right) + \left( \frac{1}{4} + \frac{1}{3} - \frac{5}{2} + 3 \right) = \frac{8}{3}$$

$$\therefore 30 \times S = 80$$

12) [정답] 34

[해설]

(i) 집합  $A = \left\{ (2 + 2\cos\theta, 2 + 2\sin\theta) \mid -\frac{\pi}{3} \leq \theta \leq \frac{\pi}{3} \right\}$ 에서

$x = 2 + 2\cos\theta$ ,  $y = 2 + 2\sin\theta$ 라 하면

$$x - 2 = 2\cos\theta \text{에서 } (x - 2)^2 = 4\cos^2\theta \dots \text{㉠}$$

$$y - 2 = 2\sin\theta \text{에서 } (y - 2)^2 = 4\sin^2\theta \dots \text{㉡}$$

㉠+㉡을 하면

$$(x - 2)^2 + (y - 2)^2 = 4 \left( -\frac{\pi}{3} \leq \theta \leq \frac{\pi}{3} \right)$$

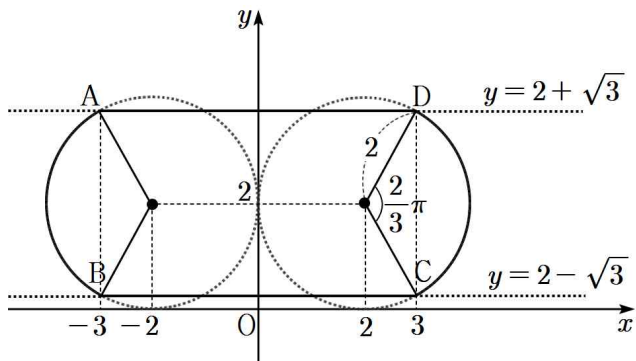
(ii) 집합  $B = \left\{ (-2 + 2\cos\theta, 2 + 2\sin\theta) \mid \frac{2\pi}{3} \leq \theta \leq \frac{4\pi}{3} \right\}$ 에서

$x = -2 + 2\cos\theta, y = 2 + 2\sin\theta$ 라 하면  
 $x + 2 = 2\cos\theta$ 에서  $(x+2)^2 = 4\cos^2\theta$  ..... ㉠  
 $y - 2 = 2\sin\theta$ 에서  $(y-2)^2 = 4\sin^2\theta$  ..... ㉡  
 ㉠+㉡을 하면

$$(x+2)^2 + (y-2)^2 = 4 \left( \frac{2\pi}{3} \leq \theta \leq \frac{4\pi}{3} \right)$$

(iii) 집합  $C = \{(a, b) \mid -3 \leq a \leq 3, b = 2 \pm \sqrt{3}\}$ 은  
 $-3 \leq x \leq 3$ 에서 직선  $y = 2 + \sqrt{3}, y = 2 - \sqrt{3}$  위의  
 점의 자취를 의미한다.

이상에서 나타내는 집합을 나타내면 다음 그림과 같다.



따라서 집합  $A \cup B \cup C$ 의 모든 원소가 나타내는 도형  $X$ 로  
 둘러싸인 부분의 넓이  $\alpha$ 는

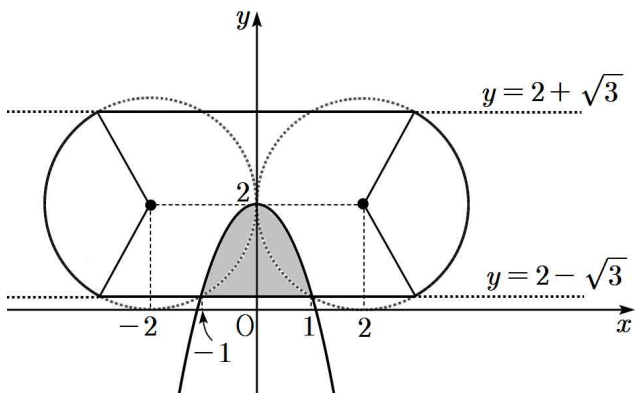
$$\begin{aligned} \alpha &= 2 \times (\text{활꼴 AB의 넓이}) + (\text{사각형 ABCD의 넓이}) \\ &= 2 \times \left( \frac{1}{2} \cdot 2^2 \cdot \frac{2\pi}{3} - \frac{1}{2} \cdot 2 \cdot 2 \cdot \sin \frac{2\pi}{3} \right) \\ &\quad + 6 \times \{2 + \sqrt{3} - (2 - \sqrt{3})\} \\ &= \frac{8\pi}{3} - 2\sqrt{3} + 12\sqrt{3} \\ &= \frac{8\pi}{3} + 10\sqrt{3} \end{aligned}$$

도형  $X$ 와 곡선  $y = -\sqrt{3}x^2 + 2$ 가 만나는 점의  $y$ 좌표를  $c$ 라  
 하면  $c = 2 - \sqrt{3}$

$$-\sqrt{3}x^2 + 2 = 2 - \sqrt{3} \text{에서}$$

$$x^2 = 1 \quad \therefore x = -1 \text{ 또는 } x = 1$$

따라서 곡선  $y = -\sqrt{3}x^2 + 2$ 와 직선  $y = 2 - \sqrt{3}$ 으로  
 둘러싸인 부분의 넓이  $\beta$ 는 다음 그림과 같다.



$$\text{넓이 } \beta = \int_{-1}^1 \{(-\sqrt{3}x^2 + 2) - (2 - \sqrt{3})\} dx \text{이므로}$$

$$\beta = -\sqrt{3} \int_{-1}^1 (x^2 - 1) dx$$

$$= -2\sqrt{3} \int_0^1 (x^2 - 1) dx$$

$$= -2\sqrt{3} \left[ \frac{1}{3}x^3 - x \right]_0^1$$

$$= -2\sqrt{3} \times \left( \frac{1}{3} - 1 \right)$$

$$= \frac{4}{3}\sqrt{3}$$

$$\alpha - \beta = \frac{8\pi}{3} + 10\sqrt{3} - \frac{4}{3}\sqrt{3}$$

$$= \frac{8\pi}{3} + \frac{26}{3}\sqrt{3}$$

따라서  $p = 8, q = 26$ 이므로

$$p + q = 8 + 26 = 34$$

13) [정답] ④

[해설]

$x < 0$ 일 때, 점 A에서 두 함수  $y = ax^2 + 2$ 와  $y = -2x$ 의  
 그래프가 접하므로  $ax^2 + 2 = -2x$ ,

$$\text{즉 } ax^2 + 2x + 2 = 0 \quad \dots\dots \text{㉠}$$

이차방정식 ㉠의 판별식을  $D$ 라 하면

$$\frac{D}{4} = 1 - 2a = 0$$

$a = \frac{1}{2}$ 이므로 접점 A의  $x$ 좌표는  $-2$ 이다.

점 B는 점 A와  $y$ 축에 대하여 대칭이므로 점 B의  $x$ 좌표는  
 $2$ 이다.

주어진 두 함수의 그래프가 모두  $y$ 축에 대하여 대칭이므로  
 구하는 넓이는

$$2 \times \int_0^2 \left( \frac{1}{2}x^2 + 2 - 2x \right) dx$$

$$= 2 \times \left[ \frac{1}{6}x^3 + 2x - x^2 \right]_0^2 = 2 \times \frac{4}{3} = \frac{8}{3}$$

14) [정답] ③

[해설]

구하고자 하는 도형의 넓이를  $S$ 라 하면

$$S = \int_0^2 |f(x) - g(x)| dx$$

$$= \int_0^2 \{g(x) - f(x)\} dx$$

$g(x) - f(x)$ 는 최고차항의 계수가 3이고

삼차방정식  $g(x) - f(x) = 0$ 은 한 실근 0과 중근 2를

가지므로  $g(x) - f(x) = 3x(x-2)^2$

$$\begin{aligned} \text{따라서 } S &= \int_0^2 3x(x-2)^2 dx \\ &= \int_0^2 (3x^3 - 12x^2 + 12x) dx \\ &= \left[ \frac{3}{4}x^4 - 4x^3 + 6x^2 \right]_0^2 \\ &= 12 - 32 + 24 = 4 \end{aligned}$$

15) [정답] ②

[해설]

$f(x) = x^2 - 4x + 6$ 이라 하면

$$f'(x) = 2x - 4$$

곡선  $y = f(x)$  위의 점  $A(3, 3)$ 에서의 접선의 기울기가  $f'(3) = 2$ 이므로 접선  $l$ 의 방정식은  $y - 3 = 2(x - 3)$ ,  
 $y = 2x - 3$

따라서 곡선  $y = f(x)$ 와 직선  $l$  및  $y$ 축으로 둘러싸인 부분의 넓이는

$$\begin{aligned} &\int_0^3 \{x^2 - 4x + 6 - (2x - 3)\} dx \\ &= \int_0^3 (x^2 - 6x + 9) dx \\ &= \left[ \frac{1}{3}x^3 - 3x^2 + 9x \right]_0^3 = 9 \end{aligned}$$

16) [정답] 290

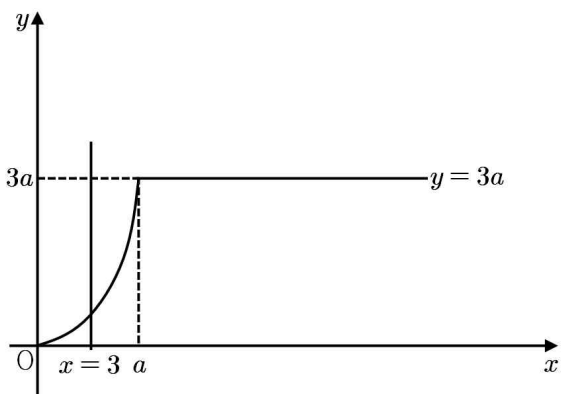
[해설]

$$f(x) = \begin{cases} \frac{3}{a}x^2 & (-a \leq x \leq a) \\ 3a & (x < -a \text{ 또는 } x > a) \end{cases}$$

의 그래프는  $y$ 축 대칭함수이므로  $y = f(x)$ 의 그래프와  $x$ 축 및 두 직선  $x = -3, x = 3$ 으로 둘러싸인 넓이가 8이면  $y = f(x)$ 의 그래프와  $x$ 축 및 두 직선  $x = 0, x = 3$ 으로 둘러싸인 넓이가 4이다.

$x \geq 0$ 일 때  $y = f(x)$ 의 그래프를 그려보면 다음과 같다.

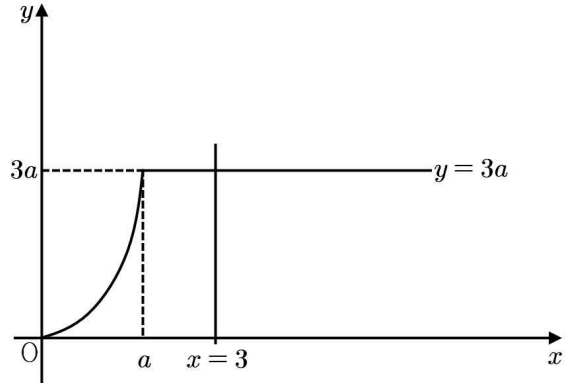
(i)  $a \geq 3$ 일 때



$$\int_0^3 \frac{3}{a}x^2 dx = \left[ \frac{x^3}{a} \right]_0^3 = \frac{27}{a} = 4$$

$$\therefore a = \frac{27}{4}$$

(ii)  $0 < a < 3$ 일 때



$$\begin{aligned} &\int_0^a \frac{3}{a}x^2 dx + (3-a) \times 3a \\ &= \left[ \frac{x^3}{a} \right]_0^a + 9a - 3a^2 \\ &= -2a^2 + 9a \\ &= 4 \end{aligned}$$

$$\therefore a = \frac{1}{2} \quad (\because 0 < a < 3)$$

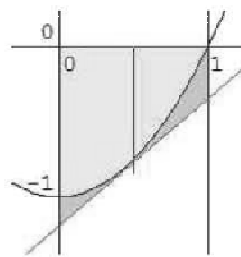
(i), (ii)에 의하여 만족하는  $a$ 는  $\frac{27}{4}, \frac{1}{2}$ 이므로 모든  $a$ 값의

합  $S$ 는  $S = \frac{29}{4}$

$$\therefore 40S = 40 \times \frac{29}{4} = 290$$

17) [정답] ④

[해설]



그림에서 사다리꼴의 넓이가 최소일 때이므로

접점이  $x = \frac{1}{2}, y = -\frac{3}{4}$ 일 때이다.

따라서 최소 넓이는  $\frac{3}{4} - \frac{2}{3} = \frac{1}{12}$

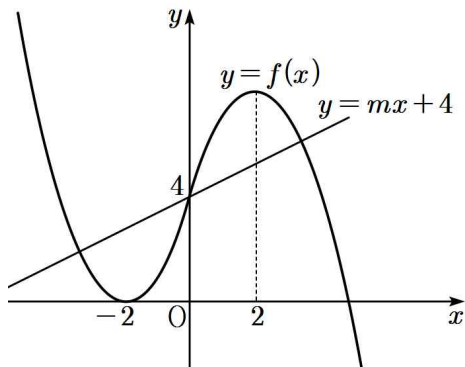
18) [정답] ③

[해설]



두 함수  $f(x) = \begin{cases} (x+2)^2 & (x \leq 0) \\ -(x-2)^2 + 8 & (x > 0) \end{cases}$ ,  $y = mx + 4$ 의

그래프를 그리면 다음과 같다.



두 함수는 모두 점  $(0, 4)$ 에 대하여 대칭이므로  $y = mx + 4$ ,  $y = (x+2)^2$ 로 둘러싸인 넓이와  $y = mx + 4$ ,  $y = -(x-2)^2 + 8$ 로 둘러싸인 넓이가 같다. 따라서 곡선  $y = f(x)$ 와 직선  $y = mx + 4$ 로 둘러싸인 부분의 넓이  $h(m)$ 은  $y = mx + 4$ ,  $y = (x+2)^2$ 로 둘러싸인 넓이의 2배와 같다.

$$x^2 + 4x + 4 = mx + 4 \text{에서}$$

$$x^2 - (m-4)x = 0$$

$$x = 0 \text{ 또는 } x = m-4$$

따라서 두 함수  $y = mx + 4$ ,  $y = (x+2)^2$ 로 둘러싸인 부분의

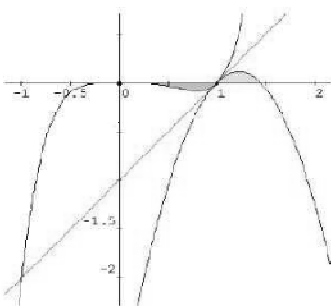
넓이는  $\int_{m-4}^0 \{(mx+4) - (x+2)^2\} dx$ 이므로

$$\begin{aligned} h(m) &= 2 \times \int_{m-4}^0 \{(mx+4) - (x+2)^2\} dx \\ &= 2 \times \frac{(4-m)^3}{6} \\ &= \frac{(4-m)^3}{3} \end{aligned}$$

$$\therefore h(-2) + h(1) = \frac{6^3}{3} + \frac{3^3}{3} = 72 + 9 = 81$$

19) [정답] ②

[해설]



$f(x)$ 와  $y = x - 1$ 의 접점의  $x$ 좌표를  $t$ 라 하면

$$f'(t) = 5t^4 - 4at^3 = 1$$

$$t^5 - at^4 = t - 1$$

정리하면

$$a = \frac{5t^4 - 1}{4t^3} = \frac{t^5 - t + 1}{t^4}$$

$$t^5 + 3t - 4 = 0, (t-1)(t^4 + t^3 + t^2 + t + 4) = 0$$

$$\therefore t = 1, a = 1, f(x) = x^4(x-1)$$

한편  $g(x)$ 와  $y = x - 1$ 의 접점은  $(1, 0)$ 이므로

$$g'(1) = k(1-b) = 1$$

이제 두 영역의 넓이에서

$$\int_0^1 (x^4 - x^5) dx = \int_1^b k(x-1)(x-b) dx$$

$$\frac{1}{30} = \frac{-k(b-1)^3}{6}, k(b-1)^3 = -\frac{1}{5}$$

$$k = \frac{1}{1-b} = -\frac{1}{5(b-1)^3}$$

$$(b-1)^2 = \frac{1}{5}$$

$$\therefore b = 1 + \frac{1}{\sqrt{5}}, k = -\sqrt{5}$$

$$\text{따라서 } abk = -1 - \sqrt{5}$$

20) [정답] ④

[해설]

$A = B$ 이므로

$$\int_0^2 \{(x^3 + x^2) - (-x^2 + k)\} dx = 0$$

이어야 한다.

$$\begin{aligned} \int_0^2 \{(x^3 + x^2) - (-x^2 + k)\} dx &= \int_0^2 (x^3 + 2x^2 - k) dx \\ &= \left[ \frac{1}{4}x^4 + \frac{2}{3}x^3 - kx \right]_0^2 \\ &= 4 + \frac{16}{3} - 2k \\ &= \frac{28}{3} - 2k \end{aligned}$$

$$\text{따라서 } \frac{28}{3} - 2k = 0 \text{에서}$$

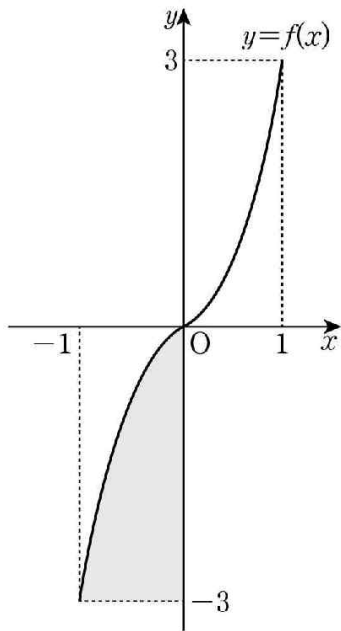
$$2k = \frac{28}{3}, k = \frac{14}{3}$$

21) [정답] 41

[해설]

문제에서  $\int_0^1 f(x) dx = 1$ 이고, 함수  $y = f(x)$ 의

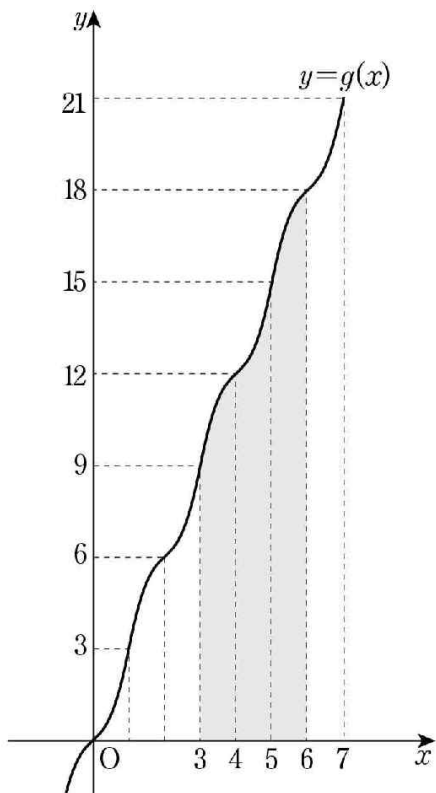
그래프는 원점에 대하여 대칭이다.



그러므로 그림에서 색칠된 영역의 넓이는  $3-1=2$

단한구간  $[3, 6]$ 에서  $\int_3^6 g(x)dx = \int_3^6 |g(x)|dx$ 는

곡선  $y=g(x)$ 와  $x$ 축 및 두 직선  $x=3, x=6$ 으로 둘러싸인 도형의 넓이이므로 함수  $y=g(x)$ 의 그래프와 구하는 영역을 그림으로 나타내면 다음과 같다.



단한구간  $[3, 5]$ 에서 함수  $y=g(x)$ 의 그래프는 함수  $y=f(x)$ 의 그래프를  $x$ 축의 방향으로 4만큼 평행이동하고  $y$ 축의 방향으로 12만큼 평행이동한 그래프이므로

$$\int_3^5 g(x)dx = 2 \times 12 = 24$$

단한구간  $[5, 7]$ 에서 함수  $y=g(x)$ 의 그래프는 함수  $y=f(x)$ 의 그래프를  $x$ 축의 방향으로 6만큼 평행이동하고  $y$ 축의 방향으로 18만큼 평행이동한 그래프이므로

$$\int_5^6 g(x)dx = 15 \times 1 + 2 = 17$$

따라서  $\int_3^6 g(x)dx = \int_3^5 g(x)dx + \int_5^6 g(x)dx = 41$

22) [정답] ①

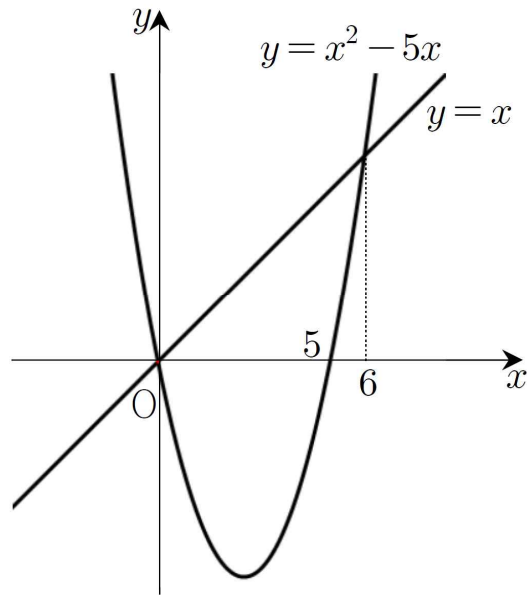
[해설]

$$x^2 - 5x = x \text{에서}$$

$$x(x-6)=0$$

$$x=0 \text{ 또는 } x=6$$

곡선  $y=x^2-5x$ 와 직선  $y=x$ 가 만나는 점은 원점과  $(6, 6)$ 이다.



곡선  $y=x^2-5x$ 와 직선  $y=x$ 로 둘러싸인 부분의 넓이는

$$\int_0^6 \{x - (x^2 - 5x)\} dx = \int_0^6 (6x - x^2) dx$$

$$= \left[ 3x^2 - \frac{1}{3}x^3 \right]_0^6$$

$$= 36$$

따라서 직선  $x=k$ 가 넓이를 이등분하므로

$$18 = \int_0^k \{x - (x^2 - 5x)\} dx$$

$$= \int_0^k (6x - x^2) dx$$

$$= \left[ 3x^2 - \frac{1}{3}x^3 \right]_0^k$$

$$= 3k^2 - \frac{1}{3}k^3$$

정리하면

$$k^3 - 9k^2 + 54 = 0$$

$$(k-3)(k^2 - 6k - 18) = 0$$

즉,  $0 < k < 6$ 이므로  $k=3$

23) [정답] ④

[해설]

$$v(t) = -4t + 5$$

이므로

점 P의 시각  $t$ 에서의 위치를  $x(t)$ 라 하면

$$x(t) = -2t^2 + 5t + C \text{ (단, } C \text{는 적분상수)}$$

이때  $x(3) = 11$ 이므로

$$-2 \times 9 + 5 \times 3 + C = 11 \text{ 에서}$$

$$C = 14$$

따라서

$$x(0) = C = 14$$

24) [정답] ①

[해설]

두 점의 위치는 각각

$$x_1(t) = t^2 + 3t, \quad x_2(t) = a \left( 3t^2 - \frac{1}{3}t^3 \right)$$

$t = 3$ 일 때 같은 위치이므로  $9 + 9 = a(27 - 9)$

$$\therefore a = 1$$

25) [정답] ③

[해설]

점 P의 시각  $t = 1$ 에서의 위치와

점 P의 시각  $t = k (k > 1)$ 에서의 위치가 서로 같으므로

시각  $t = 1$ 에서  $t = k$ 까지 점 P의 위치의 변화량은

0이다.

$$\begin{aligned} \int_1^k v(t) dt &= \int_1^k (4t - 10) dt \\ &= \left[ 2t^2 - 10t \right]_1^k \\ &= (2k^2 - 10k) - (2 - 10) \\ &= 2k^2 - 10k + 8 \\ &= 2(k-1)(k-4) = 0 \end{aligned}$$

따라서  $k = 4$

26) [정답] 6

[해설]

시각  $t$ 에서의 점 P의 위치를  $S(t)$ 라 하자.

$$v(t) = 3t^2 - 4t + k \text{ 이므로}$$

$$S(t) = S(0) + \int_0^t v(t) dt$$

$$= S(0) + \int_0^t (3t^2 - 4t + k) dt$$

$$= S(0) + \left[ t^3 - 2t^2 + kt \right]_0^t$$

$$= S(0) + t^3 - 2t^2 + kt \quad \dots\dots \textcircled{1}$$

시각  $t = 0$ 에서 점 P의 위치는 0이고, 시각  $t = 1$ 에서 점 P의 위치는  $-3$ 이므로  $S(0) = 0, S(1) = -3$ 이다.

①에서  $t = 1$ 을 대입하면  $-3 = -1 + k, k = -2$

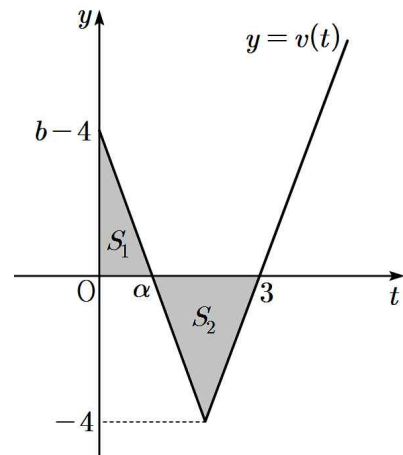
$$\therefore v(t) = 3t^2 - 4t - 2$$

따라서 시각  $t = 1$ 에서  $t = 3$ 까지 점 P의 위치의 변화량은

$$\begin{aligned} \int_1^3 v(t) dt &= \int_1^3 (3t^2 - 4t - 2) dt \\ &= \left[ t^3 - 2t^2 - 2t \right]_1^3 \\ &= 3 - (-3) \\ &= 6 \end{aligned}$$

27) [정답] 14

[해설]



조건 (가), (나)에서  $v(3) = 0$ 이고, 그림과 같이 색칠한 부분의 넓이를 각각  $S_1, S_2$ 라 하면

$$s(3) = S_1 + S_2, \quad x(3) = S_1 - S_2$$

조건 (나)에서  $s(3) - x(3) = 8$ 이므로

$$(S_1 + S_2) - (S_1 - S_2) = 8$$

$$\therefore S_2 = 4$$

위의 그림에서

$$S_2 = \frac{1}{2} \times (3 - \alpha) \times 4 = 4$$

$$\therefore \alpha = 1$$

$v(2) = -4$ 이므로  $v(t) = |at - b| - 4$ 에서

$$v(2) = |2a - b| - 4 = -4, \quad b = 2a$$

$$v(1) = v(3) = 0 \text{ 이므로}$$

$$v(1) = |a - b| - 4 = 0, \quad |-a| = 4$$

$$\therefore a = 4 (\because a > 0), \quad b = 8$$

$v(t) = |4t - 8| - 4$ 이므로  $t = 1$ 에서  $t = 6$ 까지 점 P의 위치의 변화량은

$$\begin{aligned} \int_1^6 v(t) dt &= -S_2 + \int_3^6 (4t - 12) dt \\ &= -4 + \left[ 2t^2 - 12t \right]_3^6 \\ &= -4 + 18 = 14 \end{aligned}$$

28) [정답] 16

[해설]

시각  $t$ 에서의 점 P의 위치를  $x(t)$ 라 하면

시각  $t = 3$ 에서의 점 P의 위치는

$$\begin{aligned} x(3) &= x(0) + \int_0^3 v(t) dt = \int_0^3 (3t^2 + 6t - a) dt \\ &= \left[ t^3 + 3t^2 - at \right]_0^3 = 54 - 3a = 6 \end{aligned}$$

따라서  $a = 16$

29) [정답] ②

[해설]

점 P의 시각  $t (t \geq 0)$ 에서의 위치를  $x(t)$ 라 하면

점 P의 시각  $t = 0$ 에서의 위치는 0이므로  $x(0) = 0$

$$\begin{aligned} x(t) &= x(0) + \int_0^t v(t) dt \\ &= \int_0^t 3(t-2)(t-a) dt \\ &= \int_0^t \{3t^2 - 3(a+2)t + 6a\} dt \\ &= t^3 - \frac{3}{2}(a+2)t^2 + 6at \end{aligned}$$

점 P가  $0 < t < 2, t > a$ 에서 양의 방향으로,

$2 < t < a$ 에서 음의 방향으로 움직이고

$t > 0$ 에서 점 P의 위치가 0이 되는 순간이

한 번뿐이므로  $x(a) = 0$

$$a^3 - \frac{3}{2}(a+2)a^2 + 6a^2 = 0 \text{에서 } a > 2 \text{이므로 } a = 6$$

따라서  $v(8) = 3 \times 6 \times 2 = 36$

30) [정답] ④

[해설]

두 점 P, Q가 처음으로 만나는 시각을  $a$ 라 하면

$t = a (a > 0)$ 에서 두 점의 위치가 같으므로

$$\int_0^a (3t^2 + 2t - 4) dt = \int_0^a (6t^2 - 6t) dt$$

$$\left[ t^3 + t^2 - 4t \right]_0^a = \left[ 2t^3 - 3t^2 \right]_0^a$$

$$a^3 + a^2 - 4a = 2a^3 - 3a^2$$

$$a^3 - 4a^2 + 4a = 0$$

$$a(a-2)^2 = 0$$

$a > 0$ 이므로  $a = 2$ 일 때 두 점 P, Q가 처음으로 만나고 그 위치는 4이다.

31) [정답] ④

[해설]

$$a(t) = 3t^2 - 12t + 9, \quad v(t) = t^3 - 6t^2 + 9t + k$$

$\neg$ .  $t > 3$ 이면

$a(t) = 3(t-1)(t-3) > 0$ 이므로  $v(t)$ 는 증가한다.  $\therefore$  참

$\cup$ .  $k = -4$ 이면  $v(1) = 0$ (극댓값)이므로  $v(t)$

$v(t) = 0$ 은 그림과 같다.

따라서 점 P의 운동 방향은 한 번

바뀐다.  $\therefore$  거짓

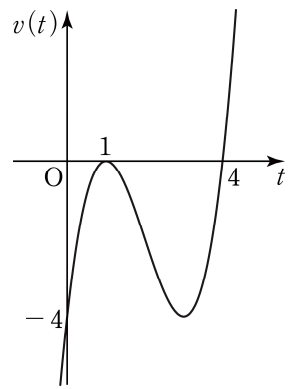
$\cap$ .  $0 \leq t \leq 5$ 에서  $v(t) \geq 0$ 이면 된다.

이 구간에서 최솟값은

$v(3) = k$ 이므로  $k \geq 0$

따라서  $k$ 의 최솟값은 0이다.

$\therefore$  참



32) [정답] 10

[해설]

$$\begin{aligned} \int_0^3 |v(t)| dt &= \int_0^3 |-4t + 8| dt \\ &= \int_0^2 (-4t + 8) dt + \int_2^3 (4t - 8) dt \\ &= \left[ -2t^2 + 8t \right]_0^2 + \left[ 2t^2 - 8t \right]_2^3 \\ &= 8 + 2 = 10 \end{aligned}$$

33) [정답] 8

[해설]

점 P가 운동 방향을 바꿀 때 속도는 0이므로

$$v(t) = 3t^2 - 12t + 9 = 3(t-1)(t-3) = 0, \quad t = 1 \text{ 또는 } t = 3$$

$0 \leq t < 1$ 에서  $v(t) > 0$

$1 < t < 3$ 에서  $v(t) < 0$ ,

$t > 3$ 에서  $v(t) > 0$

이므로 점 P는  $t=1$ 일 때 처음으로 운동 방향을 바꾸고

$t=3$ 일 때 다시 운동 방향을 바꾼다.

그러므로 점 P가 A에서 방향을 바꾼 순간부터 다시 A로 돌아

올 때까지 움직인 거리는 점 P가  $t=1$ 부터  $t=3$ 까지

이동한 거리의 2배이다.

따라서 구하는 값은

$$2 \int_1^3 |v(t)| dt = 2 \int_1^3 (-3t^2 + 12t - 9) dt$$

$$= 2 \left[ -t^3 + 6t^2 - 9t \right]_1^3$$

$$= 8$$

[다른 풀이]

점 P가 다시 A로 돌아올 때의 시각을  $t=a$ (단,  $a > 1$ )라

하면

$$\int_1^a v(t) dt = 0 \text{ 이므로}$$

$$\int_1^a v(t) dt = \int_1^a (3t^2 - 12t + 9) dt$$

$$= \left[ t^3 - 6t^2 + 9t \right]_1^a$$

$$= a^3 - 6a^2 + 9a - 4$$

$$= (a-1)^2(a-4) = 0$$

그러므로  $t=4$ 일 때 점 P가 다시 A로 돌아온다.

따라서

$$\int_1^4 |v(t)| dt = - \int_1^3 v(t) dt + \int_3^4 v(t) dt$$

$$= - \int_1^3 (3t^2 - 12t + 9) dt + \int_3^4 (3t^2 - 12t + 9) dt$$

$$= - \left[ t^3 - 6t^2 + 9t \right]_1^3 + \left[ t^3 - 6t^2 + 9t \right]_3^4$$

$$= 8$$

34) [정답] ③

[해설]

점 P가 시각  $t=3$ 에서  $t=k$ ( $k > 3$ )까지 움직인 거리는

$$\int_3^k |v(t)| dt \text{ 이므로}$$

$$\int_3^k |v(t)| dt = \int_3^k |2t-6| dt$$

$$= \int_3^k (2t-6) dt (\because k > 3)$$

$$= \left[ t^2 - 6t \right]_3^k$$

$$= k^2 - 9 - 6(k-3)$$

$$= k^2 - 6k + 9$$

즉, 조건에서 움직인 거리가 25이므로

$$k^2 - 6k + 9 = 25, k^2 - 6k - 16 = 0,$$

$$(k-8)(k+2) = 0$$

$$\therefore k = 8 (\because k > 3)$$

35) [정답] ③

[해설]

점 P가 움직이는 방향을 바꾸는 시각을

$k$ ( $k > 0$ )이라 하면

$$v(k) = k^2 - ak = 0 \text{ 에서 } k = a$$

따라서 점 P가 시각  $t=0$ 일 때부터 시각  $t=a$ 일 때까지

움직인 거리는

$$\int_0^a |v(t)| dt$$

$$= \int_0^a (-t^2 + at) dt$$

$$= \left[ -\frac{t^3}{3} + \frac{at^2}{2} \right]_0^a$$

$$= -\frac{a^3}{3} + \frac{a^3}{2}$$

$$= \frac{a^3}{6}$$

$$\text{이므로 } \frac{a^3}{6} = \frac{9}{2} \text{ 에서}$$

$$a^3 = 27$$

$$\text{따라서 } a = 3$$

36) [정답] 20

[해설]

$0 \leq t \leq 3$ 일 때,  $v(t) \geq 0$ ,  $3 \leq t \leq 4$ 일 때  $v(t) \leq 0$ 이므로 시각

$t=0$ 에서  $t=4$ 까지 점 P가 움직인 거리는

$$\int_0^4 |v(t)| dt = \int_0^3 |v(t)| dt + \int_3^4 |v(t)| dt$$

$$= \int_0^3 (12-4t) dt + \int_3^4 (4t-12) dt$$

$$= 18 + 2$$

$$= 20$$

37) [정답] ②

[해설]

$$\begin{cases} x_1(t) = t^3 - 3t^2 \\ x_2(t) = t^2 \end{cases} \text{이므로 } a^3 - 3a^2 = a^2$$

$$\therefore a = 4 (\because a > 0)$$

또한,  $\{x_1(t)\}' = 3t^2 - 6t$ 이므로 점 P가 움직인 거리는

$$\begin{aligned} & \int_0^4 |3t^2 - 6t| dt \\ &= \int_0^2 (-3t^2 + 6t) dt + \int_2^4 (3t^2 - 6t) dt \\ &= \frac{3 \times (2-0)^3}{6} + x_1(4) - x_1(2) \\ &= 4 + 20 \\ &= 24 \end{aligned}$$

따라서 움직인 거리는 24이다.

38) [정답] ③

[해설]

$$v(1) = a + b = 15, v(2) = 4a + 2b = 20 \text{에서}$$

$$a = -5, b = 20$$

$v(4) = 0$ 이므로  $t = 1$ 에서  $t = 5$ 까지 점 P가 움직인 거리는

$$\begin{aligned} & \int_1^4 (-5t^2 + 20t) dt + \int_4^5 (5t^2 - 20t) dt \\ &= \left[ -\frac{5}{3}t^3 + 10t^2 \right]_1^4 + \left[ \frac{5}{3}t^3 - 10t^2 \right]_4^5 \\ &= -\frac{5}{3} \times 63 + 10 \times 15 + \frac{5}{3} \times 61 - 10 \times 9 \\ &= \frac{170}{3} \end{aligned}$$

39) [정답] ③

[해설]

점 P의 시각  $t(t > 0)$ 에서의 가속도를  $a(t)$ 라 하면

$$v(t) = -4t^3 + 12t^2 \text{이므로}$$

$$a(t) = v'(t) = -12t^2 + 24t$$

시각  $t = k$ 에서 점 P의 가속도가 12이므로

$$-12k^2 + 24k = 12, k^2 - 2k + 1 = 0$$

$$(k-1)^2 = 0$$

$$\therefore k = 1$$

한편,  $v(t) = -4t^3 + 12t^2 = -4t^2(t-3)$ 이므로  $3 \leq t \leq 4$ 일 때

$v(t) \leq 0$ 이다.

따라서  $t = 3$ 에서  $t = 4$ 까지 점 P가 움직인 거리는

$$\int_3^4 |v(t)| dt$$

$$= \int_3^4 |-4t^3 + 12t^2| dt$$

$$= \int_3^4 (4t^3 - 12t^2) dt$$

$$= \left[ t^4 - 4t^3 \right]_3^4$$

$$= 0 - (-27) = 27$$

40) [정답] ③

[해설]

$x(0) = 0, x(1) = 0$ 이므로 점 P의 위치는  $t = 0$ 일 때 수직선의 원점이고,  $t = 1$ 일 때도 수직선의 원점이다.

또,  $\int_0^1 |v(t)| dt = 2$ 이므로 점 P가  $t = 0$ 에서  $t = 1$ 까지

움직인 거리가 2이다.

ㄱ. 점 P의  $t = 0$ 에서  $t = 1$ 까지 위치의 변화량이 0이므로

$$\int_0^1 v(t) dt = 0 \text{ (참)}$$

ㄴ.  $|x(t_1)| > 1$ 이면 점 P와 원점 사이의 거리가 1보다 큰

시각  $t_1$ 이 존재하므로 점 P가  $t = 0$ 에서  $t = 1$ 까지 움직인 거리가 2보다 크다. (거짓)

ㄷ.  $0 \leq t \leq 1$ 인 모든 시각  $t$ 에서 점 P와 원점 사이의 거리가 1보다 작고, 점 P가  $t = 0$ 에서  $t = 1$ 까지 움직인 거리가 2이므로 점 P는  $0 < t < 1$ 에서 적어도 한 번

원점을 지나간다. (참)

이상에서 옳은 것은 ㄱ, ㄷ이다.

41) [정답] ⑤

[해설]

$$\text{ㄱ. } v(t) = 3t^2 - 6t = 3t(t-2)$$

$$t < 2 \text{일 때, } v(t) < 0$$

$$t = 2 \text{일 때, } v(2) = 0$$

$$t > 2 \text{일 때, } v(t) > 0$$

$t = 2$ 에서 점 P의 움직이는 방향이 바뀐다. (참)

ㄴ. 시각  $t$ 에서의 점 P의 위치를  $x(t)$ 라 하면

$$x(2) = 0 + \int_0^2 (3t^2 - 6t) dt = \left[ t^3 - 3t^2 \right]_0^2 = -4$$

(참)

ㄷ. 시각  $t$ 에서의 점 P의 가속도를  $a(t)$ 라 하면

$$a(t) = 6t - 6$$

$$6t - 6 = 12, t = 3$$

$t = 0$ 에서  $t = 3$ 까지 움직인 거리를  $s$ 라 하면

$$s = \int_0^3 |3t^2 - 6t| dt$$

$$= - \int_0^2 (3t^2 - 6t) dt + \int_2^3 (3t^2 - 6t) dt$$

$$= 4 + \left[ t^3 - 3t^2 \right]_2^3 = 8 \quad (\text{참})$$

따라서 옳은 것은 ㄱ, ㄴ, ㄷ이다.

42) [정답] ①

[해설]

시각  $t=0$ 에서의 점 P의 위치와 시각  $t=6$ 에서의 점 P의 위치가 서로 같으므로 시각  $t=0$ 에서  $t=6$ 까지 점 P의 위치의 변화량이 0이다. 점 P의 시각  $t(t \geq 0)$ 에서의 속도  $v(t)$ 가  $v(t) = 3t^2 + at$ 이므로

$$\int_0^6 v(t) dt = \int_0^6 (3t^2 + at) dt$$

$$= \left[ t^3 + \frac{a}{2} t^2 \right]_0^6$$

$$= 36 \left( 6 + \frac{a}{2} \right) = 0$$

$$a = -12$$

$v(t) = 3t^2 - 12t$ 이므로 점 P가 시각  $t=0$ 에서  $t=6$ 까지 움직인 거리는

$$\int_0^6 |v(t)| dt = \int_0^6 |3t^2 - 12t| dt$$

$$= \int_0^4 (-3t^2 + 12t) dt + \int_4^6 (3t^2 - 12t) dt$$

$$= \left[ -t^3 + 6t^2 \right]_0^4 + \left[ t^3 - 6t^2 \right]_4^6$$

$$= 32 + 32 = 64$$

43) [정답] ⑤

[해설]

점 P의 시각  $t(t \geq 0)$ 에서의 위치를  $x_1(t)$ 라 하면

$$x_1(t) = \int_0^t (2-t) dt$$

$$= \left[ 2t - \frac{1}{2} t^2 \right]_0^t$$

$$= 2t - \frac{1}{2} t^2$$

따라서, 출발 후 점 P가 다시 원점으로 돌아온 시각은

$$2t - \frac{1}{2} t^2 = 0, \quad t^2 - 4t = 0$$

$$t(t-4) = 0$$

$$t = 4$$

이므로

출발한 시각부터 점 P가 원점으로 돌아올 때까지 점 Q가 움직인 거리는

$$\int_0^4 |3t| dt = \int_0^4 3t dt$$

$$= \left[ \frac{3}{2} t^2 \right]_0^4$$

$$= 24$$

44) [정답] 80

[해설]

점 P의 시각  $t$ 에서의 가속도  $a(t)$ 는  $a(t) = v'(t) = 12t^2 - 48$   
 $a(k) = 12(k^2 - 4) = 0$ 에서  $k > 0$ 이므로  $k = 2$ 이다.

$0 \leq t \leq 2$ 일 때  $v(t) \leq 0$ 이므로

시각  $t=0$ 에서  $t=2$ 까지 점 P가 움직인 거리는

$$\int_0^2 |v(t)| dt = \int_0^2 (-4t^3 + 48t) dt$$

$$= \left[ -t^4 + 24t^2 \right]_0^2 = -16 + 96 = 80$$

45) [정답] 17

[해설]

$t \geq 2$ 일 때

$$v(t) = 3t^2 + 4t + C \quad (\text{단, } C \text{는 적분상수})$$

$t = 2$ 일 때 속도가 같아야 하므로  $v(2) = 0$ 에서

$$12 + 8 + C = 0, \quad C = -20$$

즉,  $0 \leq t \leq 3$ 에서

$$v(t) = \begin{cases} 2t^3 - 8t & (0 \leq t \leq 2) \\ 3t^2 + 4t - 20 & (2 \leq t \leq 3) \end{cases}$$

따라서  $t=0$ 에서  $t=3$ 까지 점 P가 움직인 거리를  $s$ 라 하면

$$s = \int_0^3 |v(t)| dt$$

$$= \int_0^2 |v(t)| dt + \int_2^3 |v(t)| dt$$

$$= - \int_0^2 v(t) dt + \int_2^3 v(t) dt$$

$$= - \int_0^2 (2t^3 - 8t) dt + \int_2^3 (3t^2 + 4t - 20) dt$$

$$= - \left[ \frac{1}{2} t^4 - 4t^2 \right]_0^2 + \left[ t^3 + 2t^2 - 20t \right]_2^3$$

$$= 17$$

46) [정답] ④

[해설]

시각  $t$ 에서의 점 P의 위치를  $x(t)$ 라고 하면

$$x(t) = t^3 + \frac{a}{2}t^2$$

따라서  $t=2$ 에서의 점 P의 위치  $x(2) = 8 + 2a$ 이다.

점 P와 점 A사이의 거리가 10이므로

$$|8 + 2a - 6| = 10$$

$$|2a + 2| = 10$$

$$2a + 2 = 10 \text{ 또는 } 2a + 2 = -10$$

$$a = 4 \text{ 또는 } a = -6$$

$a > 0$ 이므로  $a = 4$ 이다.

47) [정답] ③

[해설]

$$\int_0^a |v(t)|dt = s_1, \int_a^b |v(t)|dt = s_2$$

$$\int_b^c |v(t)|dt = s_3 \text{이라 하자.}$$

점 P는 출발한 후 시각  $t=a$ 에서 처음으로 운동 방향을

바꾸므로  $-8 = \int_0^a v(t)dt = -s_1$ 에서  $s_1 = 8$ 점 P의 시각

$t=c$ 에서의 위치가  $-6$ 이므로

$$-6 = \int_0^c v(t)dt = (-8) + s_2 - s_3 \text{에서 } s_2 - s_3 = 2 \dots \text{㉠}$$

$$\int_0^b v(t)dt = \int_b^c v(t)dt \text{이므로}$$

$$-8 + s_2 = -s_3, \text{ 즉 } s_2 + s_3 = 8 \dots \text{㉡}$$

㉠, ㉡을 연립하여 풀면  $s_2 = 5, s_3 = 3$

따라서 구하는 거리는 5이다.